

Bu testte 60 soru vardır.

1. Onu, yazdığı ilk eserden beri takip ediyorum. Bu eserindeki acemiliklerine rağmen kalemini çok rahat oynatan bir yazar olduğunu düşünmüştüm. Daha sonra onunla tanışma imkânı bulduğumda da bu düşüncem değişmedi.

Bu parçada geçen "kalemini çok rahat oynatan" sözüyle anlatılmak istenen aşağıdakilerden hangisidir?

- A) Üslup konusunda aşırı titiz davranmak
- B) Eserlerini akıcı bir üslupla kaleme almak
- C) Hedef kitlesindeki okurlarca beğenilmek
- D) Eserlerinde özgün konulara yer vermek
- E) Dil bakımından oldukça savruk olmak

TIKLAYIN:

facebook:

Kpss Doküman Arşivi

Kpss Kaynak Arşivi

2. Dış dünyayı --- algılayan sanatçı, bunları eserine aktarırken benzetmeler yapar; kendi hislerini, --- değerlendirmelerini de yazısına katar ama bunda --- gitmez.

Bu cümlede boş bırakılan yerlere getirilebilecek en uygun ifadeler aşağıdakilerin hangisinde sırasıyla verilmiştir?

- A) beş duyusuyla - öznel - aşırılığa
- B) tecrübeleriyle - nesnel - abartıya
- C) hisleriyle - bazı - çok uzaklara
- D) kendi aklıyla - kendi - öznelliğe
- E) sanat aracılığıyla - tarafsız - bilgeliğe

3. I. izleme sıklığı ve süresi, izlerken ailelerin vermiş
II. her çocuğun aile yapısı, genetik özellikleri, kişilik yapısı, duygusal yapısı farklı
III. olduğu tepkiler, çocuğun içinde bulunduğu duygusal
IV. durum gibi etkenler çocuğun televizyondan etkilenme şeklini belirlemektedir
V. olduğundan televizyondan farklı şekilde etkilendiği üzerine yapılan bir araştırmaya göre; televizyonu

Yukarıdaki numaralanmış sözlerle anlamlı ve kurallı bir cümle oluşturulduğunda hangisi başarı dördüncü olur?

- A) I. B) II. C) III. D) IV. E) V.

4. (I) Beş Hececiler deyince, elbet, en güçlü şair olarak Faruk Nafiz hatırlanır. (II) Destanî şiirde korsan hikâyeleriyle Enis Behiç herkesin aklına gelen ilk isimdir. (III) Edebiyat; şiiri, düzyazısı, öğretici metni ve tiyatro metinleriyle bütün olarak ele alınan bir sanat dalıdır. (IV) Kıyaslama yaparken edebiyatın her türünde verdiği eserlerin çokluğunu düşünmek gerekir. (V) O hâlde "Halit Fahri"nin edebiyata bağlılığı, ötekilerin bağlılığından şüphesiz daha ilerdedir.

Bu parçadaki numaralanmış cümlelerle ilgili olarak aşağıdakilerden hangisi yanlıştır?

- A) I. cümlede, karşılaştırma yapılmıştır.
- B) II. cümlede, öznel bir yargı vardır.
- C) III. cümle, bir tanım cümlesidir.
- D) IV. cümle, sebep-sonuç ifadesi içerir.
- E) V. cümlede, IV. cümledeki yargıyla ilgili bir çıkarımda bulunulmuştur.

YEDİKLİM

5. (I) "Semih Lütfi'nin Ucuz Romanlar Serisi" içinde, Server Bedi imzasını taşıyan "Deli Gönüm" adlı eser, Münir Fehim'in kapak tasarımıyla basılmış. (II) Romanın yazarı olan Peyami Safa, kendi imkânlarıyla bulunduğu noktaya gelebilmiş bir sanatçı. (III) Yazar bu takma adla yayımlandığı romanlarının edebî değer taşımadığını düşünüyorsa da bu roman okuyuculara tam tersini kanıtlayacak nitelikte. (IV) Sanatçının bu eseri tam bir "kara roman" özelliği taşıyor ki edebiyatımızda çok az sayıda örneği var. (V) Ayrıca bu eserin polisiye ile edebiyatın keştiği nefis bir eser olduğunu da belirtmek gerek.

Bu parçadaki numaralanmış cümlelerden hangisi düşüncenin akışını bozmaktadır?

- A) I. B) II. C) III. D) IV. E) V.

6. I. Eski kelimeleri çokça kullanırlarsa eserlerin daha çok beğenileceğini düşünenler de çıktı ortaya. II. Nurullah Ataç'ın dilde böylesine kalıcı bir etki oluşturması, onun ne kadar önemli bir yazar olduğunu kanıtlar. III. Bunları deneyenler yine de onun yazı diline kazandırdığı yeniliği yok edemedi. IV. Nurullah Ataç'tan sonraki bazı yazarlar, bolca yabancı terim ve kelime kullanarak okuyucunun gözünde değer kazanacaklarını sandılar. V. Yazı dili onun gösterdiği yolda ilerleyerek gelişti.

Yukarıdaki numaralanmış cümlelerle anlamlı bir paragraf oluşturulduğunda hangisi baştan üçüncü olur?

- A) I. B) II. C) III. D) IV. E) V.

7. I. Dünyaca ünlü yazar Honore de Balzac'ın *İnsanlık Komedyası* adı eseri 80 ciltten oluşuyor. II. Ancak bu yapıt diğerlerinden farklı bir yere sahip. III. *Goriot Baba* adlı roman, onca cildin yalnızca bir parçası. IV. Çünkü sanatçının kafasında *İnsanlık Komedyası*'nı oluşturan düşüncenin bu romanla doğduğunu söyleyebiliriz. V. Dolayısıyla kurgusu, konusu, kahramanları ve dünya görüşü ile *Goriot Baba*, bu büyük bütünün içindeki en önemli alanı kapsıyor.

Yukarıdaki numaralanmış cümlelerle anlamlı bir bütün oluşturulduğunda hangileri yer değiştirilmelidir?

- A) I. ile II. B) II. ile III. C) II. ile IV.
D) III. ile V. E) IV. ile V.

8. Günümüzden 5.000 yıl kadar önce, Aşağı Mısır'daki

I

II

Menfis çevresinde bulunan piramitler birçok kişi

III

tarafından ziyaret ediliyordu. Ziyaretçilerin konaklama ve diğer hizmet ihtiyaçlarını karşılamak için barınma tesisleri inşa edilmişti. Aşağı Mezopotamya'da da

IV

Kral Şülgü, Babil'i asma bahçeleriyle süslemişti.

V

Bu parçadaki numaralanmış sözlerden hangisinin yazımı yanlıştır?

- A) I. B) II. C) III. D) IV. E) V.

9. Kasabamızın yakınından geçen dere, I biraz ileride

derin bir çukura dökülür. Dökülürken derenin sesi parçalanır, başkalaşır; II yorgun argın da olsa kendini

toplayan dere, akışını sürdürür. Ama insanlar dereye rahat vermez ki... Bu kez de köylüler III

kumunu, IV taşını yağmalar derenin. Fabrikaların

kustuğu zehirlere bulanarak, V utanç içinde

Sakarya'ya kavuşmaya çalışır sonunda.

Bu parçadaki numaralanmış noktalama işaretlerinden hangisi yanlış kullanılmıştır?

A) I. B) II. C) III. D) IV. E) V.

10. Halk nazar eylesin Pınarbaşı'na

Cevher yağar toprağına taşına

Ulu camilerde kandil başına

Altın fener yanar mumu Bursa'nın

Bu dizelerde aşağıdaki ses olaylarından hangisi vardır?

- A) Ünsüz sertleşmesi (benzeşme)
- B) Ünlü daralması
- C) Ünsüz düşmesi
- D) Ünsüz türemesi
- E) Ünsüz yumuşaması (değişimi)

11. I. İstanbul'dan Ankara'ya tam beş saatte geldik.

II. Getirdiğim çiçekleri özenle vazoya yerleştirdi.

III. Sabahları erken kalkıp bahçeyi sulamayı seviyordu.

IV. Ormanın tam ortasında şırıl şırıl bir göze vardı.

V. Öğretmenleri hastalanınca sınav haftaya kalmış.

Yukarıdaki numaralanmış cümlelerde geçen altı çizili sözcüklerin hangisinde ad durum eki yoktur?

A) I. B) II. C) III. D) IV. E) V.

12. Yazılış ve okunuşları aynı olup aralarında anlam ortaklığı bulunan köklere "ortak (kökteş) kök" adı verilir.

Buna göre aşağıdaki cümlelerin hangisinde ortak kök kullanılmamıştır?

- A) Düğünde oğlan tarafı olarak tüm adetleri yerine getirdiklerini söylediler.
- B) İki gün önce marketten aldığım yoğurt ekşiyince gidip yenisini aldım.
- C) Bana bu kadar çok yalan söylediği için ona hiç güvenim kalmadı.
- D) Birlikte savaştığımız bütün değerlere sırtını dönmüştü şimdi.
- E) Saatlerce kıpırdamadan yolculuk yapınca ayakları şişmişti.

13. (I) Hem çok büyüleyici hem de tüm dikkatleri üzerinde toplayan bir çiçek şakayık. (II) Üstelik şakayığın pek çok farklı tür ve rengi de var. (III) Genellikle sarı, beyaz, kırmızı ve pembe tonlarda olurlar. (IV) Güneşi sever ve çok fazla su istemezler. (V) Yılda sadece bir kez gübrelenmesi gerekir.

Bu parçadaki numaralanmış cümlelerle ilgili olarak verilenlerden hangisi yanlıştır?

- A) I. cümlede, bağlaç kullanılmıştır.
B) II. cümlede, yüklem isimdir.
C) III. cümlede, niteleme sıfatı vardır.
D) IV. cümle, sıralı cümledir.
E) V. cümle, girişlik birleşiktir.

14. Aşağıdaki cümlelerden hangisi yalnızca özne ve yüklemden oluşmuştur?

- A) Oraya bu işten iyi anlayan birkaç kişilik bir ekiple de gidilebilir.
B) Eserin başka dillere çevrilmesinde çeşitli sorunlar yaşandığını söyledi.
C) Dünya çapında etki uyandırmış, klasik hâline gelmiş eserler okunmalıdır.
D) Bu önemli hikâye ödülüne aday gösterilen yapıtlar tekrar incelenecek.
E) Birden fazla dalda yarışmak isteyenler de yarışmaya başvurabilir.

15. I. Sizleri böyle gayretli ve başarılı görünce mutlu oluyorum.

II. Eğitim şansından mahrum nice gencimizi görüp kahroldum.

III. Sizinle tanıştığıma ben de memnun oldum, diyerek ayrıldı.

IV. Yarın sabah saat 9.30'da hepiniz sınav salonunda olmalısınız.

V. Yetkililer, yaşadığımız bu olaydan sonra bizlere yardımcı oldu.

Yukarıdaki numaralanmış cümlelerin hangisinde "olmak" sözcüğü yardımcı eylem olarak kullanılmamıştır?

- A) I. B) II. C) III. D) IV. E) V.

16. Âşık Veysel Şatıroğlu ünlü bir halk ozanımızdır. Yedi yaşındayken geçirdiği çiçek hastalığı sonucunda sol gözünü, sonra da bir kaza sonucu diğer gözünü kaybetmiştir. Bunun üzerine babasının "canı sıkılmasın" diye aldığı sazı çalmaya ve türkü söylemeye başlamış, bu konuda gittikçe ustalaşmış ve tanınmıştır. Âşık Veysel, dili ustalıkta kullanmış, eserlerindeki yalın dille dikkat çekmiştir. Ustalık dönemi şiirlerinde birlik, beraberlik ve bütünlük mesajları veren şair; doğaya, toplumsal ve siyasal olaylara da değinmiş. Tüm bunların yanı sıra Veysel, Ahmet Kutsi Tecer'in de katkılarıyla Köy Enstitülerinde saz öğretmenliği yapmaya başlamıştır. Bu okullarda Türkiye'nin kültür yaşamına damgasını vurmuş birçok aydın sanatçıyla tanışma olanağı bulmuş ve şiirini de iyiden iyiye geliştirmiştir.

Bu parçada Âşık Veysel Şatıroğlu ile ilgili olarak aşağıdakilerden hangisine değinilmemiştir?

- A) Âşık Veysel Şatıroğlu'nun babasının aldığı sazla türküler söylemeye başladığına
B) Veysel'in ustalık döneminin Türk toplumuna birlik mesajları verdiği dönemi kapsadığına
C) Köy Enstitülerinde saz hocalığı yapıp ünlü isimlerle bir araya geldiğine
D) Ahmet Kutsi Tecer'in Veysel'in Köy Enstitülerinde saz öğretmenliği yapmasında etkili olduğuna
E) Veysel'in tanınmasında Köy Enstitülerinde tanıştığı sanatçıların etkili olduğuna

17. İlk romanım *Fırtına Takvimi*'nde olduğu gibi *Uyuyan Güzel*'deki olaylar da kısa bir zaman diliminde geçer ve kronolojik bir sıralama ile hikâye edilmez. Geçmişe durumun içinden anımsama tekniği ile dönülür ve sadece ana meseleyi anlatacak en gerekli sahneler yer alır metinde. Bu yanlarıyla öykü formuna yakın durdukları, klasik roman formuna benzemedikleri söylenebilir. Ne var ki yıllardır yazdığım türün getirdiği bir alışkanlık değil bu, tamamen tercih ettiğim bir şey. Öte yandan her iki roman da olay zinciri devamlılıkları ve bağlantıları nedeniyle öyküye uzak.

Bu sözler aşağıdaki sorulardan hangisine karşılık olarak söylenmiş olabilir?

- A) İlk romanınızdan biraz bahseder misiniz?
- B) *Uyuyan Güzel* adlı eser hangi zaman dilimini kapsar?
- C) *Uyuyan Güzel* adlı romana klasik bir roman diyebilir miyiz?
- D) *Uyuyan Güzel*'de teknik olarak öykünün izleri hangi boyuttur?
- E) *Fırtına Takvimi* ile *Uyuyan Güzel*'i kıyaslar mısınız?

18. Son yıllarda sinemamızın yurt dışında da ilgi görmesinin nedeni bu alanda kaydedilen teknolojik gelişmeler değildir. Daha önceki filmlerde kimliğimizi, kişiliğimizi etkileyici şekilde yansıtamamıştık sinemaya. Ancak artık bizi biz yapan değerleri filmlere yansıtabiliyoruz. Filmin konusu ne olursa olsun toplumu oluşturan ortak değerlerimizi eritmeyi başarıyoruz filmin içinde.

Bu parçaya göre Türk sinemasının yurt dışında ilgi görmesinin temel nedeni aşağıdakilerden hangisidir?

- A) Teknolojik gelişmelere önem verilmemesi
- B) Sinemanın geleneksellikten uzaklaştırılması
- C) Ulusal kültürün filmlere yansıtılması
- D) Toplum sorunlarının sinemaya yansıtılması
- E) Kültür öğelerinin filmlerden tamamen çıkarılması

19-20. soruları aşağıdaki parçaya göre yanıtlayınız.

Hilmi Yavuz'un şiiri iç donanım açısından alabildiğine zengin bir şiir. Ne ki bu donanımsal zenginliklerin hiçbirisi gelişigüzel bir tutumun ya da rastlantıların ürünü değil. Bu da başta değindiğimiz tutumla Hilmi Yavuz'un damıtılmış, öz şiire giden yolun sözcüklerden geçtiği gerçeğini benimsemesi ile açıklanabilir. Bir sözcük kuyumcusudur o. Sözcüklerin aralarındaki benzeşim bağıntılarını inceden inceye hesaplar. Bu bağıntılar bütünü ya da ağı, Hilmi Yavuz'un şiirlerine çok düzlemli bir nitelik kazandırır. Dahası değişik okurların karşısına değişik kimlik ve görünümlemler ile çıkar bu şiirler. Değişik yorumlara ve alımlara açık oluşu da buradan gelmektedir işte. Gerçekte her büyük şiir çok düzlemli bir yapı içerir. Şiirin hak ettiği noktaya ulaşması adına önemli olan, okurun bu çok düzlemliliğin ayırımına varabilmesi; şiiri oluşturan sözcükler arasındaki bağıntılar ve ilişkiler ağını görebilmesi.

19. Bu parçaya göre Hilmi Yavuz ile ilgili aşağıdakilerden hangisi söylenebilir?

- A) Şiirlerinde gizemciliğin anahtar kavramlarının önemli bir rol oynadığı
- B) Tüm şiirlerini ortak bir kavram üzerinde oluşturduğu
- C) Düşünce ve duyarlılığın şiirlerinde geniş bir yer tuttuğu
- D) Öz şiir anlayışına tamamen karşı çıkan bir tarzla şiir yazmaya başladığı
- E) Sözcükleri ses, anlam ve çağrışım yükleri yönünden özenli olarak değerlendirdiği

20. Bu parçadan aşağıdakilerden hangisine ulaşılabilir?

- A) Hilmi Yavuz'un eserlerinin kurgulandığı sistemin okur tarafından çözüldüğünde eserin değerli hâle geleceğine
- B) Hilmi Yavuz'un eserlerine değişik açılardan yaklaşmanın ve onlarda farklı anlamlara ulaşmanın mümkün olmadığına
- C) Hilmi Yavuz'un eserlerini yazmadan önce tüm duygu ve düşüncelerden kendini arındırdığına
- D) Hilmi Yavuz'un şiir yazarken sözcüklerden çok, ele alacağı toplum açısından değerli görülen bir konuyu seçmeye özen gösterdiğine
- E) Hilmi Yavuz'un yazdığı her şiirin bir öncekine göre anlamca daha kapalı olduğuna

21. Bu parçanın anlatımı ile ilgili olarak aşağıdakilerden hangisi yanlıştır?

- A) Öznel düşünceler ifade edilmiştir.
- B) Benzetmeye yer verilmiştir.
- C) Kişileştirme yapılmıştır.
- D) Doğadan doğaya aktarma yapılmıştır.
- E) Bir kavram, açıklayıcısıyla birlikte verilmiştir.

22. Bu parçadaki numaralanmış cümlelerin hangisinde "amaç" anlamı vardır?

- A) I. B) II. C) III. D) IV. E) V.

21-23. soruları aşağıdaki parçaya göre yanıtlayınız.

(I) Bunaldığımızda, yorulduğumuzda ya da bıktığımızda, birine kızdığımızda sığınacak sakin bir koy gibi gelir bize tatil. (II) Hele doyumsuz bir manzara karşısında tabiatın bütün sırları ifşa eden o derin seslerine dalarak büyüleyici nefesinde kaybolmak ne kadar huzur verir insana. (III) Yenilenmek, yeniden doğmak, bazı şeyleri hiç yaşamamış gibi olmak için kendimizi tatildeki sessizliğin seline bırakırız bütün ruhumuzla. (IV) Gidemesek bile gözlerimizi kapatır, yeni pencereler açıp ruhumuzla dünyayı kolaçan ederiz. (V) Çok kısa bir an da olsa sarhoş oluruz maviliklerde ilerleyen sessiz gemimizin siyah beyaz hareketli dünyasında. (VI) Bayramlarımıza bayram katmak, resmî sistemden "kayıt dışı" olmak isteriz tatillerde. (VII) Unutmak isteriz bütün olup bitenleri, gerçeklerle yüzleşmek için çıkmak istemeyiz yalancı cennetimizden.

23. Bu parçaya göre aşağıdakilerden hangisi insanların tatilde hissettiği olumlu duygulardan biri değildir?

- A) Bütün sorunları çözebilecek enerjiyi toplamak
- B) Tabiatın manzaraları karşısında huzur duymak
- C) Resmî hayatın sorumluluklarından uzaklaşmak
- D) Bunalma, kızgınlık gibi duygulardan uzaklaşıp sakinleşmek
- E) Sessizlik sayesinde yenilenmiş gibi hissetmek

24-26. soruları aşağıdaki parçaya göre cevaplayınız.

(I) 19. yüzyılda ve 20. yüzyıl başlarında seri üretim ve standart çalışma prosedürlerinin oluşturulması çarçabuk bütün sanayi dallarında katı hiyerarşik yapılara yol açtı. (II) Uzun erimli üretim çevrimlerine dayalı istikrarlı piyasalarda verimli sonuçlar veren bu sistemin değişim ve rekabetle belirlenen ekonomik ortamlarda esneklikten uzak ve hantal kaldığı görüldü. (III) Buna uygun olarak tek yönlü güdüm yapısının yerini iletişim şebekeleri alırken üst düzey yönetimin otokratik karar alma sürecine karşı sorumluluklara dayalı ekip çalışması tercih edildi. (IV) 21. yüzyılda küreselleşmeyle birlikte enformasyon ve iletişim teknolojilerinin (EİT) yayılması, düzgün bağlantılı ve uygun maliyetli bir yapıyla farklı yerlerde çalışan son derece eğitilmiş ve uzman insanlardan oluşan kuruluşları ortaya çıkarıyor. (V) Microsoft, Dell, Google gibi teknoloji şirketleri bunun başta gelen örnekleridir. (VI) Birçok modern şirket, günümüz ekonomisinin bilgi temelli ve teknoloji güdümlü olanaklarını yansıtan işletme yapılarını ve tarzlarının bir karmasını yaratmış bulunuyor.

24. Bu parça iki paragrafa ayrılmak istendiğinde ikinci paragraf numaralanmış cümlelerden hangisiyle başlar?

- A) II. B) III. C) IV. D) V. E) VI.

25. Bu parçadaki numaralanmış cümlelerle ilgili aşağıdakilerden hangisi yanlıştır?

- A) I. cümlede, gerekçesiyle birlikte verilen bir yargı vardır.
B) II. cümlede, bir gözlemden söz edilmiştir.
C) III. cümlede, deyim kullanılmıştır.
D) IV. cümlede, kanıksama anlamı vardır.
E) V. cümlede, örnekleme yapılmıştır.

26. Bu parçada aşağıdakilerden hangisine değininmemiştir?

- A) Enformasyon ve iletişim teknolojilerinin yayılmasıyla eğitilmiş ve uzman kişilerden oluşan kuruluşların ortaya çıktığına
B) Üst düzey yönetimin karar alma sürecinde katı bir yapılanmanın tercih edildiğine
C) Seri üretim ve standart çalışma prosedürlerinin değiştirilmesinin zor bir hiyerarşik yapıya neden olduğuna
D) Enformasyon ve iletişim teknolojilerin küreselleşme etkisiyle yaygınlaştığına
E) Birçok modern şirketin günümüzdeki işletme anlayışı ile kendi tarzlarını sentezlediğine

27-30. soruları aşağıdaki bilgilere göre cevaplayınız.

Bir basın toplantısına katılan Ali, Beyza, Cemile, Deniz, Eren, Fatma ve Gamze adlı gazeteciler; salonda sırasıyla birden dokuza kadar numaralanmış yan yana dizili koltuklara oturmuşlardır. Gazetecilerin oturdukları koltukların numaralarına ilişkin kimi bilgiler şu şekildedir:

- Dört numaralı koltukta Ali oturmaktadır.
- Beş numaralı koltuk boştur.
- Beyza ve Eren'in arasında sadece Gamze oturmaktadır.
- Cemile ve Fatma yan yana oturmaktadır.
- Deniz ve Fatma'nın arasında sadece bir koltuk vardır ve o koltuk da boştur.

27. Yukarıda verilen bilgilere göre,

- I. Beyza,
- II. Cemile,
- III. Deniz

adlı gazetecilerden hangileri üç numaralı koltukta oturuyor olabilir?

- A) Yalnız I B) Yalnız II C) Yalnız III
- D) I ve II E) II ve III

28. Aşağıdakilerden hangisi kesin olarak doğrudur?

- A) Beyza'nın koltuk numarası, Cemile'nin koltuk numarasından büyüktür.
- B) Ali'nin koltuk numarası, Gamze'nin koltuk numarasından büyüktür.
- C) Cemile'nin koltuk numarası, Deniz'in koltuk numarasından büyüktür.
- D) Deniz'in koltuk numarası, Ali'nin koltuk numarasından küçüktür.
- E) Eren'in koltuk numarası, Gamze'nin koltuk numarasından küçüktür.

29. Verilen bilgilere göre,

- I. Cemile,
- II. Deniz,
- III. Eren

adlı gazetecilerden hangileri dokuz numaralı koltukta oturuyor olabilir?

- A) Yalnız I B) Yalnız II C) Yalnız III
- D) I ve II E) II ve III

YEDİKLİM

30. Beyza ve Deniz'in arasında iki koltuk bulunduğu biliniyorsa aşağıdakilerden hangisi doğrudur?

- A) Bir numaralı koltukta Cemile oturmaktadır.
- B) Üç numaralı koltukta Eren oturmaktadır.
- C) Altı numaralı koltukta Fatma oturmaktadır.
- D) Yedi numaralı koltukta kimse oturmamaktadır.
- E) Sekiz numaralı koltukta kimse oturmamaktadır.

31. zyx , yyx ve yxx üç basamaklı doğal sayılardır.

$$zyx + yyx + yxx = 1179$$

olduğuna göre, $x + y + z$ toplamı kaçtır?

- A) 11 B) 12 C) 13 D) 14 E) 15

32. $\frac{5,5}{77} \cdot \left(\frac{1}{4} - \frac{1}{0,5} \right)$

işleminin sonucu kaçtır?

- A) $-\frac{1}{7}$ B) $-\frac{1}{8}$ C) $\frac{1}{11}$ D) $\frac{5}{11}$ E) $\frac{1}{0,5}$

33. a , b , c pozitif tam sayılardır.

$$a + b + c < 50$$

$$a + b = 3c$$

olduğuna göre, c en çok kaç olabilir?

- A) 9 B) 10 C) 11 D) 12 E) 16

34. a , b , c ardışık tam sayılar ve $a > b > c$ olmak üzere,

$$(a - c - 2) \cdot (c - b - 1) \cdot (a - b)$$

çarpımının sonucu kaçtır?

- A) 0 B) 1 C) -1 D) -2 E) -3

35. $(0,0125 \cdot 10^{-5})^{\frac{2}{3}} \cdot 10^6$

işleminin sonucu kaçtır?

- A) 0,12 B) 0,25 C) 0,5
D) 1 E) 25

36. $x = 5\sqrt{3}$

$$y = 7\sqrt{2}$$

$$z = 3\sqrt{11}$$

olduğuna göre aşağıdaki sıralamalardan hangisi doğrudur?

- A) $y > z > x$ B) $x > y > z$
C) $z > y > x$ D) $y > x > z$
E) $z > x > y$


37. $5 \cdot 7! = a$ olmak üzere

$$9! - 8! + 7!$$

ifadesinin a cinsinden eşiti aşağıdakilerden hangisidir?

- A) $13a$ B) $15a$ C) $20a$ D) $25a$ E) $30a$

38.



Bir elma fidanı bahçesindeki 150 fidanı numaralandırmak için üzerine en fazla üç basamaklı sayıların yazılacağı şekildeki gibi plakalar hazırlanacaktır.

Bu plakalara her kareye bir rakam gelecek şekilde 1'den başlayarak sırasıyla sayılar yazılır.

Buna göre, bu numaralandırma işlemi bittiğinde tüm plakalarda toplam kaç kare boş kalır?

- A) 99 B) 102 C) 104 D) 106 E) 108

39. $\sqrt[3]{27}(2\sqrt{3} - \sqrt{75})$

işleminin sonucu kaçtır?

- A) -9 B) -8 C) -3 D) $2\sqrt{3}$ E) $4\sqrt{3}$

40. x ve y tam sayıları için

$$5 < 2x < 13$$

$$-7 < 3y < 17$$

olduğuna göre, $x - y$ farkının alabileceği en büyük değer kaçtır?

- A) 6 B) 7 C) 8 D) 9 E) 10

YEDİKLİM

41. $x < 0$ ve $y > 0$ olmak üzere,

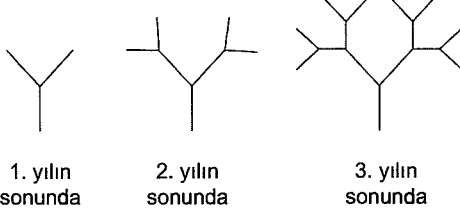
$$\frac{x|y-x| + y|x-y|}{y-x}$$

ifadesi aşağıdakilerden hangisine eşittir?

- A) $y-x$ B) $x+2y$ C) $x-2y$
D) $x-y$ E) $x+y$

42. Tek bir gövde olarak toprağa dikilen bir ağaç türünde ilk yıl gövdeden 2 yeni dal, sonraki yıllarda da her yeni daldan 2 dal daha oluşmaktadır.

Aşağıda bu ağaç türünün ilk üç yıldaki dal oluşumu gösterilmiştir.



Bu ağaç türünde 1. yılın sonunda toplam 2, 2. yılın sonunda toplam 6, 3. yılın sonunda toplam 14 dal olmuştur.

Buna göre, 6. yılın sonunda bu ağaç türünde toplam kaç dal oluşur?

- A) 96 B) 116 C) 126 D) 138 E) 142

43. x ve $2y$ sayılarının aritmetik ortalaması 4, $2x$ ve z sayılarının aritmetik ortalaması 5'tir.

Buna göre, $(3x + 6y)$ ve $(6x + 3z)$ sayılarının geometrik ortalaması kaçtır?

- A) $6\sqrt{3}$ B) $6\sqrt{5}$ C) $12\sqrt{3}$
D) $12\sqrt{5}$ E) $16\sqrt{3}$

44. $x^2 - 2x - 7 = 0$

olduğuna göre, $x^4 - 2x^3 - 14x + 5$ ifadesinin sayısal değeri kaçtır?

- A) 54 B) 56 C) 61 D) 63 E) 67

45. $x - y = y - z = 3$ olduğuna göre, $x^2 - 2y^2 + z^2$ ifadesinin değeri kaçtır?

- A) 6 B) 9 C) 12 D) 15 E) 18

46. Batu bir miktar misketi arkadaşları ile eşit olarak paylaştığında her kişiye 10'ar tane misket düşüyor. Batu kendi payından her arkadaşına 1 misket daha verirse kendisine 4 tane misket kalıyor.

Buna göre paylaşılan misket sayısı kaçtır?

- A) 60 B) 70 C) 80 D) 90 E) 100

47. Bir kitaplıkta belirli sayıda roman ve bu romanların 3 katı kadar dergi bulunmaktadır.

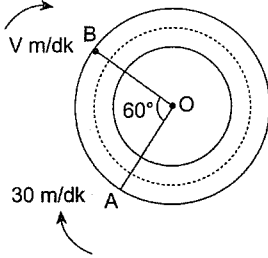
- Aslı, dergilerin $\frac{1}{4}$ 'ü ile 4 roman,
- Leyla kalan dergilerin $\frac{1}{3}$ 'ü ile 2 roman,
- Cihan kalan 18 dergi ile kalan tüm romanları alıyor.

Buna göre, Cihan kitaplıktan kaç roman almıştır?

- A) 4 B) 5 C) 6 D) 7 E) 8

48. Şekildeki O merkezli dairesel pistin çevresi 300 m'dir. A noktasından 30 m/dk hızına sahip olan bir araç, B noktasından ise hızı V m/dk olan bir başka araç aynı anda harekete başlıyorlar.

$$(\widehat{AOB} = 60^\circ)$$



Bu iki araç belirtilen yönlerde harekete başladıktan 25 dakika sonra üçüncü kez yan yana geldiklerine göre, V kaçtır? ($V > 30$)

- A) 48 B) 50 C) 54 D) 56 E) 64

49. Tuz oranı %40 olan bir miktar tuzlu suyun %60'ı dökülüyor. Karışıma dökülen miktarın yarısı kadar tuz, diğer yarısı kadar da su ilave ediliyor.

Buna göre, oluşan son karışımın su oranı yüzde kaç olur?

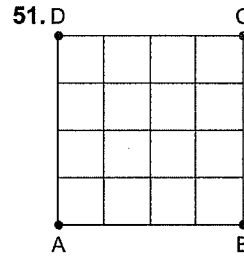
- A) 46 B) 48 C) 50 D) 52 E) 54

50. Yaş sabun kurutulduğunda ağırlığı %30 oranında azalıyor. Kilogramı 8 TL'yi alanan yaş sabun kurutulup %40 kârla satılıyor.

Buna göre, 1 kilogram kuru sabunun satış fiyatı kaç liradır?

- A) 14 B) 15 C) 16 D) 18 E) 20

YEDİKLİM



ABCD karesi 16 eşkareye ayrılmıştır.

Yukarıdaki şekilden rastgele seçilen dörtgenlerden birinin kare olma olasılığı kaçtır?

- A) $\frac{3}{10}$ B) $\frac{8}{35}$ C) $\frac{17}{50}$ D) $\frac{9}{25}$ E) $\frac{19}{50}$

52-54. soruları aşağıdaki bilgilere göre birbirinden bağımsız olarak cevaplayınız.

Her birinde 10, 20 ve 30 puan değerinde üç tür sorunun bulunduğu A, B, ve C kutuları ile ilgili aşağıdakiler bilinmektedir.

- Her kutuda eşit sayıda 20 puanlık soru vardır.
- B kutusunda üç türden de eşit sayıda soru vardır.
- C kutusunda üç türden de aynı değerlerde soru vardır.

53. Bu üç kutudaki 10 puanlık soruların toplam puan değeri, 20 puanlık soruların toplam puan değerine eşittir.

Buna göre, A kutusundaki 10 puanlık soru sayısının 20 puanlık soru sayısına oranı kaçtır?

- A) 1,5 B) 2 C) 2,5 D) 3 E) 3,5

54. C kutusundaki soruların toplam değeri 300 puan ise B kutusunda toplam kaç tane soru vardır?

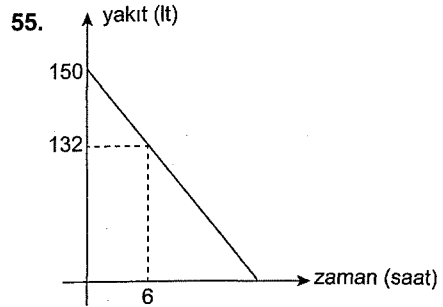
- A) 15 B) 30 C) 45 D) 60 E) 75

YEDİKLİM

52. A kutusundaki 30 puanlık soruların sayısı, 20 puanlık soruların sayısının 3 katına, 10 puanlık soruların sayısının 2 katına eşittir.

Buna göre, B kutusundaki soruların puan toplamı değerinin A kutusundaki soruların puan toplamı değerine oranı kaçtır?

- A) 1 B) 0,75 C) 0,48 D) 0,5 E) 0,45



Bir aracın yakıtının zamana göre değişimi yukarıdaki grafikte gösterilmiştir.

Buna göre, bu aracın kaç saat sonra kalan yakıt miktarı tüketilen miktarına eşit olur?

- A) 15 B) 18 C) 20 D) 22 E) 25

56. Reel sayılarda tanımlı Δ işlemi

$(a + b) \Delta (a - b) = a \cdot b - 1$ şeklinde tanımlanıyor.

Buna göre, $(5 \Delta 3) \Delta 13$ işleminin değeri kaçtır?

- A) -20 B) -27 C) -31 D) -37 E) -41

57. A ve B iki kümedir.

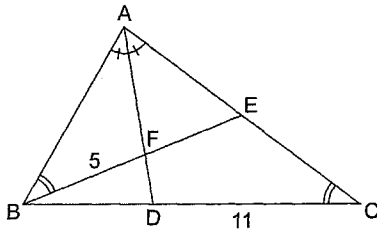
$$s(A \cap B) \neq \emptyset$$

$$s(A) + s(B) = 28$$

olduğuna göre, $s(A) - s(B)$ farkının alabileceği en büyük değer kaçtır?

- A) 28 B) 27 C) 26 D) 25 E) 24

58.



Şekilde $[AD]$ açıortay.

$$m(\widehat{ABE}) = m(\widehat{ACB})$$

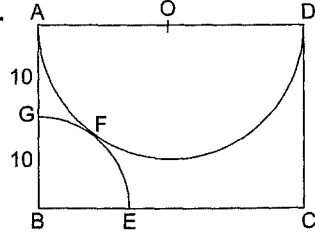
$$|BF| = 5 \text{ br,}$$

$$|DC| = 11 \text{ br}$$

ise, $|BC|$ kaç br'dir?

- A) 17 B) 16 C) 15 D) 14 E) 13

59.



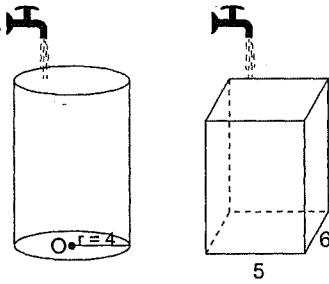
Şekilde, ABCD dikdörtgen. B merkezli çeyrek çember O merkezli yarım çembere F noktasında teğettir.

$|AG| = |GB| = 10 \text{ cm}$ ise $A(ABCD)$ kaç cm^2 'dir?

- A) 600 B) 500 C) 450
D) 400 E) 350

YEDİKLİM

60.



Şekilde, yükseklikleri eşit olan silindir ve dikdörtgenler prizması şeklinde iki kap veriliyor.

Bu kaplar sırasıyla saatte 12 cm^3 su akıtan musluk ile 2'şer saat boyunca dolduruluyor.

Bu süre sonunda kaplarda bulunan suların yükseklikleri oranı aşağıdakilerden hangisidir?

- A) $\frac{12\pi}{7}$ B) $\frac{10\pi}{9}$ C) $\frac{8\pi}{15}$ D) $\frac{2\pi}{5}$ E) $\frac{3\pi}{5}$

Bu testte 60 soru vardır.

1. I. Basım tekniğini bilmeleri

II. Kâğıt kullanmaları

III. Alfabelerinin bulunması

Yukarıdakilerden hangileri Göktürk ve Uygurların ortak özelliklerindendir?

- A) Yalnız I B) Yalnız II C) Yalnız III
D) I ve III E) II ve III

2. Nizamiye Medresesi, aşağıdaki devletlerden hangisinin zamanında açılmıştır?

- A) Karahanlılar
B) Gazneliler
C) Büyük Selçuklu
D) Anadolu Selçuklu
E) Osmanlı Devleti

3. I. Yusuf Has Hacıp

II. Kaşgarlı Mahmut

III. Fuzuli

Yukarıdaki yazarlardan hangileri, Karahanlılar Dönemi'nde yaşamıştır?

- A) Yalnız I B) Yalnız II C) Yalnız III
D) I ve II E) I, II ve III

4. Karesioğulları Beyliği aşağıdaki hükümdarlardan hangisinin döneminde Osmanlı Devleti'ne bağlanmıştır?

- A) Osman Gazi
B) Orhan Gazi
C) II. Mehmet
D) I. Mehmet
E) I. Murat

5. Sahn-ı Seman Medresesini İstanbul'da kurdu-
ran padişah aşağıdakilerden hangisidir?

- A) Fatih Sultan Mehmet
B) Kanuni Sultan Süleyman
C) II. Bayezit
D) Yavuz Sultan Selim
E) II. Mahmut

6. I. Has

II. Zeamet

III. Tımar

Yukarıdakilerden hangileri, dirlik toprakların bölümleri arasında yer alır?

- A) Yalnız I B) Yalnız II C) Yalnız III
D) II ve III E) I, II ve III

7. Osmanlı ordusunda silah bakım ve onarımını yapan sınıf aşağıdakilerden hangisidir?

- A) Cebeciler
B) Humbaracılar
C) Silahtar
D) Turnacılar
E) Sakalar

YEDİNCİ KÜM

8. I. Adaletli yargılama yapabilmek
II. Hazinesinden para çıkmadan asker beslemek
III. Devlet otoritesini sağlamak
Yukarıdakilerden hangileri, tımar sisteminin faydaları arasında yer alır?

A) Yalnız I B) Yalnız II C) Yalnız III
D) II ve III E) I, II ve III

9. I. Mohaç
II. Palekanon
III. Çaldıran

Yukarıdaki savaşlardan hangileri, Osmanlı Devleti'nin Kuruluş Dönemi'nde meydana gelmiştir?

A) Yalnız I B) Yalnız II C) Yalnız III
D) I ve III E) I, II ve III

10. Borç alınan bir paranın belirli zamanda ödeneceğini gösteren senetler aşağıdakilerden hangidir?

A) Esham
B) Kaime
C) Mürur
D) Adaletname
E) Kanunname

11. I. Navarin Baskını
II. Çeşme Baskını
III. Sinop Baskını

Yukarıdakilerden hangileri, Osmanlı donanmasına zarar vermiştir?

A) Yalnız I B) Yalnız II C) Yalnız III
D) II ve III E) I, II ve III

12. Mızıka-yı Hümayun aşağıdaki padişahların hangisinin döneminde kurulmuştur?

A) III. Selim
B) II. Mahmut
C) Abdülmecit
D) Abdülaziz
E) II. Abdülhamit

13. Uşi Antlaşması'na göre;

I. Trablus halkı dinî olarak Osmanlı halifesine bağlı olacaktır.
II. Trablus İtalya'ya bırakılacaktır.
III. İtalya kapitülasyonların kaldırılmasına karşı çıkmayacaktır.

maddelerinden hangilerinin Osmanlı Devleti'nin Trablus ile kültürel bağını devam ettirmeye yönelik olduğu savunulabilir?

A) Yalnız I B) Yalnız II C) Yalnız III
D) I ve III E) I, II ve III

14. I. Dünya Savaşı'nda Tehcir Kanunu'nu uygulayan devlet aşağıdakilerden hangisidir?

A) Ermenistan
B) İngiltere
C) Osmanlı Devleti
D) Suriye
E) Rusya

15. I. Elâzığ

II. Diyarbakır

III. Van

Yukarıdakilerden hangileri, Vilayet-i Sitte illeri arasında yer alır?

- A) Yalnız I B) Yalnız II C) Yalnız III
D) I ve III E) I, II ve III

16. I. TBMM'nin özellikleri arasında;

I. Kurucu meclis özelliği vardır.

II. Meclis hükûmeti sistemi uygulanmaktadır.

III. İcra Vekilleri Heyeti, Mecliste tek tek oylama ile seçilmiştir.

özelliklerinden hangileri yer alır?

- A) Yalnız I B) Yalnız II C) Yalnız III
D) I ve III E) I, II ve III

17. San Remo Konferansı'nda;

I. Irak'ın İngiltere'ye bırakılması,

II. Suriye'nin Fransız mandası olması,

III. Doğu Anadolu'da bir Ermeni Devleti'nin kurulması

kararlarından hangileri alınmıştır?

- A) Yalnız I B) Yalnız II C) Yalnız III
D) I ve III E) I, II ve III

18. Mustafa Kemal'in isteği doğrultusunda Lozan'a giden heyet;

I. kapitülasyonlar,

II. Ermeni Devleti,

III. doğu sınırı

gibi konuların hangilerinden taviz vermemiştir?

- A) Yalnız I B) Yalnız II C) Yalnız III
D) I ve II E) I, II ve III

19. Türk İnkılabı ile ilgili olarak;

I. Hazırlayan ve uygulayanlar aynı kişilerdir.

II. Tutsak uluslara örnek olmuştur.

III. Laik yönetim benimsenmiştir.

yargılarından hangilerine ulaşılabilir?

- A) Yalnız I B) Yalnız II C) Yalnız III
D) I ve III E) I, II ve III

20. Mustafa Kemal, askerlik görevine aşağıdaki ülkelerden hangisinde başlamıştır?

A) Türkiye

B) Suriye

C) Irak

D) Yunanistan

E) Makedonya

21. Yeni Türk Devleti'nde;

I. Şeyh Sait,

II. Menemen,

III. Çerkez Ethem

isyanlarından hangileri Takrir-i Sükûn Kanunu'nun ilanına sebep olmuştur?

- A) Yalnız I B) Yalnız II C) Yalnız III
D) I ve III E) I, II ve III

22. Medreselerin kapatılması;

- I. eğitimin ulusallaşması,
 - II. karışıklıkların engellenmesi,
 - III. siyasi alanda cinsiyet farkının kaldırılması
- durumlarından hangilerini ortaya çıkarmıştır?**

- A) Yalnız I B) Yalnız II C) Yalnız III
D) I ve II E) I, II ve III

23. Mustafa Kemal Atatürk'ün "Türklerin vatan sevgisiyle dolu göğüsleri, düşmanların melun ihtiraslarına karşı daima demirden bir duvar gibi yükselecektir." sözü;

- I. vatan için her türlü zorluğa katlanılması,
 - II. Millî Mücadele'de birliğin sağlanması,
 - III. kişisel ihtiraslar için her şeyin yapılması
- durumlarından hangilerini zorunlu kılmıştır?**

- A) Yalnız I B) Yalnız II C) Yalnız III
D) I ve II E) I, II ve III

24. Atatürk Dönemi'nde;

- I. Tarım Kredi Kooperatifleri,
 - II. Yüksek Ziraat Enstitüsü,
 - III. Maden Tetkik ve Arama Enstitüsü
- gibi kuruluşlardan hangileri kurulmuştur?**

- A) Yalnız I B) Yalnız II C) Yalnız III
D) I ve II E) I, II ve III

25. I. Glasnost

- II. Perestroyka
- III. NEP

Yukarıdakilerden hangileri, Sovyet lideri Gorbaçov'un izlediği politikalarındandır?

- A) Yalnız I B) Yalnız II C) Yalnız III
D) I ve II E) I, II ve III

26. Birleşmiş Milletler Teşkilatının merkezi aşağıdaki ülkelerden hangisindedir?

- A) İsviçre
- B) İngiltere
- C) Rusya
- D) İtalya
- E) ABD

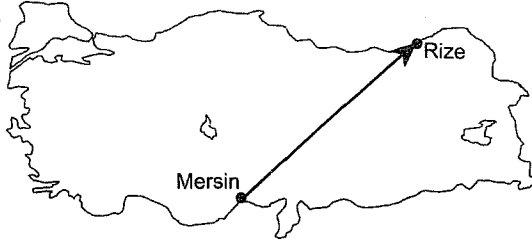
27. I. ASALA

- II. Hınçak
- III. Taşnak

Yukarıdakilerden hangileri, Ermenilerle ilgilidir?

- A) Yalnız I B) Yalnız II C) Yalnız III
D) I ve III E) I, II ve III

28.



Yukarıdaki haritada belirtilen ok yönünde Mersin'den Rize'ye gidildikçe değişen aşağıdaki durumlardan hangisi mutlak konum ile ilgili değildir?

- A) Yağış miktarının artması
- B) 21 Aralık'ta gece süresinin uzaması
- C) Güneşin daha erken doğması
- D) Yer çekiminin artması
- E) Orman yetişme üst sınırının alçalması

29. Türkiye'de yer şekillerinin çeşitliliği aşağıdaki-lerden hangisi üzerinde etkili değildir?

- A) Aynı anda farklı mevsim özelliklerinin görülmesinde
- B) Kısa mesafede yağış ve sıcaklık değerlerinin değişmesinde
- C) Karadeniz kıyılarının sıcaklığının Akdeniz kıyılarından düşük olmasında
- D) Aynı bölge içinde tarım ürünlerinin çeşitlilik göstermesinde
- E) Doğal bitki örtüsünün çeşitlilik göstermesinde

30. Peneplen arazisi özelliğini kazanmış bir yüzeyde akan akarsu için aşağıdaki yargılardan hangisi yanlıştır?

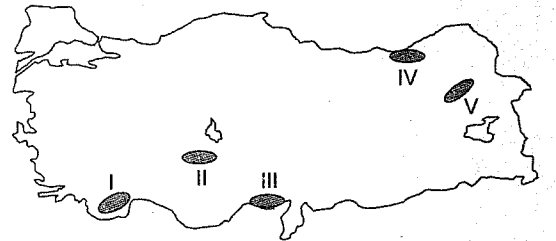
- A) Akarsu denge profiline yaklaşmıştır.
- B) Akarsu aşındırma gücü azalmıştır.
- C) Akarsu enerji potansiyeli azalmıştır.
- D) Akarsu vadisinde taraça oluşmuştur.
- E) Akarsuyun yana aşındırması artmıştır.

31. Aşağıdaki göllerden hangisi akarsuyun taşıdığı malzemenin bir çanağın veya vadinin önünde birikmesi sonucunda oluşmuştur?

- A) Büyükçekmece Gölü
- B) Abant Gölü
- C) Van Gölü
- D) Köyceğiz Gölü
- E) Salda Gölü

32. • Doğal bitki örtüsü gür otlardan oluştuğu için humus oluşumu fazla ve bu nedenle koyu renktedir.

- Tarım açısından çok verimli toprak türlerindedir.
- Yağış azlığından dolayı yıkanma az, toprak yüzeyinde humus ve mineral birikimi fazladır.



Yukarıda özellikleri verilen toprak türü haritasındaki numaralı alanlardan hangisinde yaygındır?

- A) I B) II C) III D) IV E) V

33. Aşağıdaki yeryüzü şekillerinden hangisinin oluşumunda karstik süreçler etkili olmuştur?

- A) Sinop kıyılarındaki falezlerin
- B) Bitlis Nemrut Krater Gölü'nün
- C) Alanya Damlatış Mağarası'ndaki sarkıt, dikit ve sütunların
- D) Konya Karapınar yöresinde mantar kayanın
- E) Göreme yöresindeki peribacalarının

34. Erzurum ve Ankara'nın yıllık güneşlenme süreleri ile güneş ışınlarının yere düşme açıları benzerlik göstermektedir. Ancak Erzurum'da kışlar daha soğuk, yazlar daha serin geçmektedir.

Bu durum aşağıdakilerden hangisiyle açıklanabilir?

- A) Yerel saatlerinin farklı olması
- B) Denizel etkinin az olması
- C) Doğal bitki örtüsünün farklı olması
- D) Yağış rejimlerinin farklı olması
- E) Yükselti farkının fazla olması

35. Türkiye'nin aşağıdaki özelliklerinden hangisi genç nüfuslu olduğunu kanıtlar?

- A) Okuryazar oranının yüksek olması
- B) Kentleşme oranının yüksek olması
- C) Toplam nüfus içinde 0-14 yaş grubunun oranının fazla olması
- D) Doğum oranlarının ölüm oranlarından fazla olması
- E) Doğal kaynakların tüketiminin fazla olması

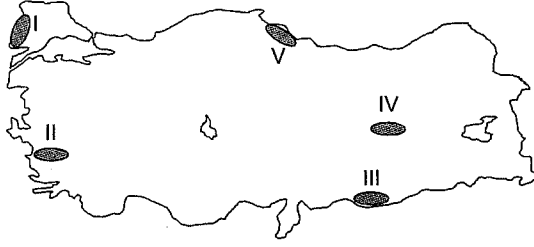
36. Aşağıda verilen göç türlerinden hangisi mevsimlik göç türlerindendir?

- A) Afyon'un Emirdağ ilçesinde yaşayan soğuk demir ustası Necati Nazım Bey'in 1980 yılında daha iyi bir yaşam için ailesiyle birlikte Almanya'ya göç etmesi
- B) İzmir'de yaşayan Cem Bey'in yaz tatilini geçirmek için Kuşadası'ndaki yazlığına gitmesi
- C) Lozan Antlaşması gereği Türkiye'deki Rum nüfusu ile Yunanistan'daki Türk nüfusunun bir bölümünün yer değiştirmesi
- D) İstanbul Üniversitesi öğretim üyelerinden Prof. Dr. Balı Öztürk'ün İngiltere'deki Oxford Üniversitesinde çalışmak için gitmesi
- E) 17 Ağustos 1999 Gölcük depreminde evi yıkılan Doğa ve Deniz çiftinin İzmir'e yerleşmesi

37. Aşağıda verilen kişilerden hangisi birincil ekonomik faaliyet kolunda çalışmaktadır?

- A) İzmir-Trabzon uçak seferinin pilotu Tuğrul Bey
- B) Kimya mühendisi olan Yasemin Hanım'ın Aliağa rafinerisinde işe başlaması
- C) Trabzon'dan Akdeniz'e orkinos avlamak için teknesiyle gelen balıkçı Önder
- D) İzmir'de bir otelde housekeeping stajını tamamlayan Ali'nin Çeşme'de bir otelde işe başlaması
- E) Ankara'da pazarlama müdürü olan Musa Bey'in İstanbul'daki otomobil fuarına gitmesi

38.



Yukarıdaki haritada numaralandırılmış tarım yörelerinde yapılan tarımsal faaliyetlerle ilgili aşağıdaki bilgilerden hangisi yanlıştır?

- A) I numaralı alanın Türkiye üretiminde birinci olduğu tarım ürününün üretiminde makine kullanımı çok fazladır.
- B) II, III ve IV numaralı alanda pamuk tarımı yapılmaktadır.
- C) II ve III numaralı alanda tarımda sulama ihtiyacı V numaralı alandan çok fazladır.
- D) IV numaralı alanın Türkiye üretiminde ilk sırada olduğu ürün dış satımda yer alan ürünlerdendir.
- E) II ve V numaralı alandaki tarım ürün çeşitliliği IV numaralı alandan fazladır.

40. I. Yağışların az olduğu yıllarda süt üretiminin azalması

II. Hayvancılığın büyük kentler çevresinde yoğunluk kazanması

III. İç pazarda hayvansal ürün tüketiminin fazla olması

Yukarıdakilerden hangileri Türkiye’de hayvancılığın daha çok mera hayvancılığı şeklinde yapıldığını doğrulamaktadır?

- A) Yalnız I B) Yalnız II C) Yalnız III
- D) I ve III E) II ve III

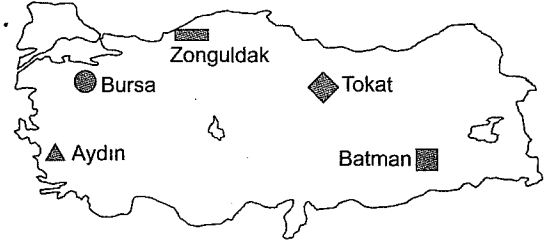
YEDİKLİM

39. Bir tarım ürününün ülke içindeki yetiştirme alanı ne kadar geniş ise ülkenin doğal koşullarına uyumu o kadar fazladır.

Buna göre, aşağıdaki tarım ürünlerinden hangisinin Türkiye’nin iklim koşullarına daha fazla uyum gösterdiği söylenemez?

- A) Buğday
- B) Fındık
- C) Üzüm
- D) Şeker pancarı
- E) Pamuk

41.



- Kâğıt ◆ Şeker
- Otomotiv ■ Petrokimya
- ▲ Yağ

Buna göre, hangi merkezdeki sanayi kolunun kurulmasında farklı bir faktör etkili olmuştur?

- A) Zonguldak - Kâğıt
- B) Bursa - Otomotiv
- C) Tokat - Şeker
- D) Batman - Petrokimya
- E) Aydın - Yağ

42. I. Türkiye, son yıllarda kullanımı artan doğal gaz üretiminde kendi kendine yeten bir durumdadır.

II. I. Jeolojik Zaman'da oluşması nedeniyle Türkiye taş kömürü bakımından zengindir.

III. Akarsuların hidroelektrik enerji potansiyeli doğudan batıya doğru artar.

IV. Rüzgâr enerji üretim kurulu gücü daha çok batı bölgelerinde yer alır.

Yukarıda Türkiye'deki enerji kaynakları ile ilgili olarak verilen bilgilerden hangileri doğrudur?

- A) Yalnız I B) Yalnız III C) Yalnız IV
D) II ve IV E) III ve IV

44. Aşağıdaki turizm alanlarından hangilerinde yılın belli dönemlerinde ziyaretçi sayısında artış olmaktadır?

- A) İnanç merkezleri - Antik kentler
B) Kayak merkezleri - Kaplıcalar
C) Kaplıcalar - Yaylalar
D) Yaylalar - Kayak Merkezleri
E) Yaylalar - Antik kentler

45. İstanbul Limanı'ndan hareket eden bir yük gemisi aşağıdaki komşu ülkelerden hangisinin limanına en kısa yoldan ulaşmak için başka ülkelerin kara sularından geçmek zorundadır?

- A) Gürcistan
B) Bulgaristan
C) Suriye
D) Yunanistan
E) Irak

43. İklim özellikleri benzer iki merkez arasındaki ticarette tarım ürünlerinin oranı azdır.

Buna göre, aşağıda verilen kent çiftlerinden hangisi arasındaki ticarette tarım ürünlerinin payı daha fazladır?

- A) Aydın - Mersin
B) Çanakkale - Antalya
C) Trabzon - Malatya
D) Adana - Balıkesir
E) Konya - Eskişehir

46. Aşağıdakilerden hangisi ceza türlerinden biri değildir?

- A) Ağır hapis
B) Cebrî icra
C) Müebbet hapis
D) Hapis
E) Belli bir meslek veya sanatın icrasının geçici olarak tatil edilmesi

47. Hukuk düzeni tarafından kişilere verilmiş menfaat ve yetkiye ne ad verilmektedir?

- A) İcap
- B) Fiil ehliyeti
- C) İspat
- D) Hak
- E) Yetki

48. Davaya bakan hâkimin kanunu uygularken yaptığı yoruma ne ad verilir?

- A) Yasama yorumu
- B) Bilimsel yorum
- C) Yargısal yorum
- D) Deyimsel yorum
- E) Amaçsal yorum

49. Kanunlara ilişkin aşağıdaki ifadelerden hangisi yanlıştır?

- A) Kanun teklif etmeye milletvekilleri yetkilidir.
- B) TBMM'ce kabul edilen kanunları yayımlama görevi cumhurbaşkanına aittir.
- C) Cumhurbaşkanı kendisine sunulan kanunları 30 gün içinde Resmî Gazete'de yayımlar.
- D) Cumhurbaşkanı bütçe kanun teklifini mali yıl-başından en az 75 gün önce TBMM'ye sunar.
- E) Kanunlar aksine bir hüküm yoksa Resmî Gazete'de yayımlandığı günü izleyen günden itibaren 45 gün sonra yürürlüğe girer.

50. 1982 Anayasası'na göre TBMM, ilan edilmiş bir olağanüstü hâl süresini her defasında en çok kaç aylığına uzatabilir?

- A) 2
- B) 3
- C) 4
- D) 5
- E) 6

51. 1982 Anayasası'nda yapılan ve 16 Nisan 2017 tarihinde halkoylaması ile kabul edilen değişiklik ile Anayasa Mahkemesinin üye sayısı kaçta düşmüştür?

- A) 10
- B) 12
- C) 13
- D) 15
- E) 17

52. 657 sayılı Devlet Memurları Kanunu'na göre memurluktan çekilmiş sayılanlar ne kadar süre için devlet memurluğuna alınamazlar?

- A) 4 ay
- B) 6 ay
- C) 1 yıl
- D) 2 yıl
- E) 3 yıl

53. Aşağıdakilerden hangisi mahallî idarelerden biri değildir?

- A) Belediye idaresi
- B) Köy idaresi
- C) Büyükşehir belediyesi
- D) İl idaresi
- E) İl özel idaresi

54. Aşağıdakilerden hangisi istisnai bir memurluk değildir?

- A) Valilik
- B) Elçilik
- C) Kaymakamlık
- D) Bakanlık müşavirliği
- E) TBMM memurlukları

55. Aşağıdakilerden hangisi genelkurmay başkanlığı yapmamıştır?

- A) Hilmi Özkök
- B) Işık Koşaner
- C) Necdet Özel
- D) Yaşar Büyükanıt
- E) Ahmet Necdet Sezer

56. Aşağıdakilerden hangisi adalet ve güvenliği, ekonomik kalkınma ve sosyal eşitliği uluslararası alanda tüm ülkelerde sağlama amacı ile 1945 yılında kurulmuş uluslararası bir örgüttür?

- A) Birleşmiş Milletler (BM)
- B) Avrupa Birliği (AB)
- C) Ekonomik İş Birliği Teşkilatı (ECO)
- D) Avrupa Güvenlik ve İş Birliği Teşkilatı (AGİT)
- E) G-20

57. Haziran 2016 tarihinde 74 yaşında hayatını kaybeden ve üç kez Dünya Ağır Siklet Boks şampiyonluğunu kazanan spor tarihinin efsanevi ismi Amerikalı Müslüman profesyonel boksör kimdir?

- A) Lennox Lewis
- B) Evander Holyfield
- C) Rocky Marciano
- D) Mike Tyson
- E) Muhammed Ali

58. Çin, Rusya, Kazakistan, Kırgızistan, Tacikistan ve Özbekistan'ın oluşturduğu Avrupa Birliği'ne alternatif bir oluşum olarak adlandırılan birliğin adı nedir?

- A) Ekonomik İş Birliği örgütü (ECO)
- B) Karadeniz Ekonomik İş Birliği Teşkilatı (KEİ)
- C) Avrasya Askerî Statülü Kolluk Kuvvetleri Teşkilatı
- D) Avrupa Konseyi
- E) Şanghay İş Birliği Örgütü (ŞİÖ)

59. 2016 yılında TBMM Genel Kurulunda yapılan seçimle kamu başdenetçiliğine seçilen kişi kimdir?

- A) Şeref Malkoç
- B) Sadi Güven
- C) Zühtü Arslan
- D) İsmail Rüştü Cirit
- E) Mehmet Nihat Ömeroğlu

60. BBC'nin dünyadan 177 film eleştirmeni ile birlikte yaptığı, 21.yüzyılın En İyi 100 Filmi listesinde 36 ülkeden eleştirmenlerin katıldığı ankette 54. sırada yer alan Nuri Bilge Ceylan'ın yönettiği filmin adı nedir?

- A) Bir Zamanlar Anadolu
- B) Sivas
- C) Kış Uykusu
- D) Sarmaşık
- E) Uzak

1. Parçanın yazarı, ilk eserinden beri takip ettiği, bu eserinde bazı acemilikler yapsa da "kalemimi çok rahat oynatan" bir sanatçıdan söz etmiştir. Bu söz ile sanatçının çok rahat ve duraksamadan yazmaya uygun bir dili olduğu anlaşılmaktadır ki bu nitelik anlatımda "akıcılık" olarak ifade edilir. Bu düşüncüyü en iyi yansıtan yargı ise B seçeneğinde verilmiştir.

Cevap B

2. Öncüldeki cümlede sanatçının dış dünyayı algılayıp bunları eserine aktarırken çeşitli benzetme ve yorumları da yazısına kattığı anlatılmaktadır. İlk boşluktan sonraki "algılayan" sözcüğü ile "beş duyusuyla" sözü, ikinci boşluktan sonraki "değerlendirmelerini de" sözüyle "özel, kendi" sözcükleri, üçüncü boşluktan sonraki "gitmez" sözcüğüyle "aşırılığa, abartıya" sözcükleri anlamca uyumludur. Buna göre öncüldeki boşlukları en iyi şekilde tamamlayan sözler A seçeneğinde verilmiştir.

Cevap A

YEDİKKLİM

4. I numaralı cümlede "en güçlü" sözüyle karşılaştırma yapıldığından A, II numaralı cümlede kişisel bir düşünce ifade edildiğinden B, III numaralı cümlede "Edebiyat nedir?" sorusuna yanıt verildiğinden C, V numaralı cümlede "O hâlde" sözüyle kendisinden önceki yargıyla ilgili çıkarımda bulunduğundan E seçenekleri doğrudur. Ancak IV numaralı cümlede herhangi bir sebep-sonuç ifadesi yoktur.

Cevap D

5. Bir paragraftaki bütün cümleler aynı konu ve ana düşüncüyü ele almalıdır. Buna uygun olmayan cümleler ise düşüncenin akışını bozar. Buna göre parçanın I, III, IV ve V numaralı cümlelerde Peyami Safa'nın *Deli Gönüm* adlı eseriyle ilgili bilgi ve düşünceler ifade edilmiştir. Ancak II numaralı cümlede, yazarın, bulunduğu noktaya kendi imkânlarıyla geldiği söylenerek düşüncenin akışı bozulmuştur.

Cevap B

6. Numaralanmış cümlelerin giriş-gelişme-sonuç cümlelerinden oluşan anlamlı bir paragraf oluşturan sıralanışı IV-I-III-V-II şeklindedir. Buna göre III numaralı cümle, baştan üçüncü sırada yer alır.

Cevap C

Kpss Kaynak Arşivi - Kpss Doküman Arşivi
<https://www.facebook.com/KpssKaynakArsivi>

3. Anlamlı cümle kullanılan tüm sözlerin anlam ilişkisi içinde olduğu, kurallı cümle ise yüklem en sonunda bulunduğu cümledir. Buna göre verilen sözlerin anlamlı ve kurallı bir cümle oluşturan sıralanışı II - V - I - III - IV şeklindedir. III numaralı söz, baştan dördüncü sırada yer alır.

(II) Her çocuğun aile yapısı, genetik özellikleri, kişilik yapısı, duygusal yapısı farklı (V) olduğundan televizyondan farklı şekilde etkilendiği üzerine yapılan bir araştırmaya göre; televizyonu (I) izleme sıklığı ve süresi, izlerken ailelerin vermiş (III) olduğu tepkiler, çocuğun içinde bulunduğu duygusal (IV) durum gibi etkenler çocuğun televizyondan etkilenme şeklini belirlemektedir.

Cevap C

7. Bu tür soruların çözümünde öncelikle ilk cümlelerin giriş cümlesi olmaya uygun olup olmadığına bakılır. Sonra seçeneklerden de yararlanarak diğer cümlelerin anlam ilişkilerine bakılır ve ilişkinin keşildiği yerde değişiklik yapılır. Buna göre I numaralı cümle, giriş cümlesi olmaya uygundur. Ancak II numaralı cümle, anlamca IV numaralı cümleyle ilgilidir. III numaralı cümle ise "onca cildin" ifadesinden de anlaşılacağı üzere giriş cümlesinin ardından gelmelidir. Dolayısıyla II ve III numaralı cümlelerin yerleri değiştirildiğinde anlam bütünlüğü sağlanmış olur.

Cevap B

8. Parçadaki I, II, III ve V numaralı sözlerin yazımında herhangi bir yanlışlık yoktur. Ancak IV numaralı sözün yazımında ünsüz benzeşmesi kuralına uyulmadığı için yanlışlık yapılmıştır, "inşa et-il-miş-idi > inşa edilmişti" şeklinde ünsüz benzeşmesi kuralına uygun yazılmalıdır.

Cevap D

9. Özneyi belirtmek için kullanıldığından I, içinde virgüller bulunan sıralı cümlelerin arasında kullanıldığından II, yüklem belirtmediğinden III, eş görevli sözcüklerin arasında kullanıldığından IV numaralı noktalama işaretleri yerinde kullanılmıştır. Ancak son cümlede "bulanarak" zarf-fiilinden sonra bir başka zarf-fiil olmadığından V numaralı işaret yanlış kullanılmıştır. Burada hiçbir noktalama işareti kullanılmamalıdır.

Cevap E

10. Öncüldeki dizelerde A, B, C ve D seçeneklerindeki ses olayları yoktur. Ancak dizelerde geçen "toprak-ı-n-a > toprağına" sözcüğünde ünsüz yumuşaması (değişimi) vardır.

Cevap E

11. Numaralanmış cümlelerde geçen "saat-te" sözcüğünde bulunma hâli, "vazo-y-a, hafta-y-a" sözcüklerinde yönelme hâli, "bahçe-y-i" sözcüğünde belirtme hâli eki vardır. Ancak IV numaralı cümlede geçen "göz-e" sözcüğündeki "-e" eki, isimden isim yapım ekidir.

Cevap D

12. Öncüldeki açıklamaya göre B, C, D ve E seçeneklerindeki "ekşi, güven, savaş, şiş" sözcükleri ortak (kökteş) köktür. Ancak A seçeneğinde ortak kök yoktur.

Cevap A

13. Parçanın I. cümlesinde geçen "hem ... hem de" bağlaç olduğu için A'daki, II. cümlede geçen (var) isim olduğu için B'deki, III. cümlede geçen "sarı, beyaz, kırmızı, pembe" nitelendirme sıfatı olarak kullanıldığı için C'deki, V. cümlede ana yargı ile birlikte yan yargı (gübrenmesi) da kullanıldığı için E'deki bilgiler doğrudur. Ancak IV. cümle girişlik sıralı değil, bağlı bir cümledir.

Cevap D

14. Seçeneklerdeki cümlelerin ögeleri şu şekildedir:

A) Oraya bu işten iyi anlayan birkaç kişilik bir ekip de

Edat Tümleri CDU

gidilebilir.

Yüklem

B) Eserin başka dillere çevrilmesinde çeşitli sorunlar yaşandığını söyledi.

B.İ Nesne Yüklem

C) Dünya çapında etki uyandırmış, klasik hâline gelmiş eserler okunmalıdır.

Özne Yüklem

D) Bu önemli hikâye ödülüne aday gösterilen yapıtlar

Özne

tekrar incelenecek.

ZT Y

E) Birden fazla dalda yarışmak isteyenler de

Özne CDU

yarışmaya başvurabilir.

DT Y

Buna göre C seçeneğindeki cümle, yalnızca özne ve yüklemden oluşmuştur.

Cevap C

15. Yardımcı eylemler isim türündeki bir sözcüğü eyleme dönüştürmek için kullanılan "etmek, olmak, kılmak, eylemek" eylemlerdir. Ancak bu eylemler kimi durumlarda başka bir sözcükle birleşmeden kendi anlamlarını taşıyacak şekilde de kullanılabilir. Buna göre I numaralı cümledeki "mutlu oluyorum", II numaralı cümledeki "kahır oldum > kahroldum", III numaralı cümledeki "memnun oldum", V numaralı cümledeki "yardımcı oldu" fiillerindeki "olmak", yardımcı eylemdir. Ancak IV numaralı cümlede bu sözcük "bulunmak" anlamını taşımaktadır ve başka bir sözcükle birleşmediği için yardımcı eylem değildir.

Cevap D

16. Parçada geçen "Bunun üzerine babasının 'canı sıkılmasın' diye aldığı sazı çalmaya başlamış..." ifadesinde A, "Ustalık dönemi şiirlerinde birlik, beraberlik ve bütünlük mesajları veren şair" ifadesinde B, "Ahmet Kutsi Tecer'in de katkılarıyla Köy Enstitülerinde saz öğretmenliği yapmaya başlamıştır." ve "Bu okullarda Türkiye'nin kültür yaşamına damgasını vurmuş birçok aydın sanatçıyla tanışma olanağı bulmuş..." cümlelerinde C ve D seçeneklerine değiştirilmiştir. Ancak parçada, sanatçının tanınmasında Köy Enstitülerinde tanıştığı sanatçıların etkili olduğuna dair bir ifade yoktur.

Cevap E

17. Öncülde, sanatçının yazmış olduğu *Uyuyan Güz* adlı öykünün olaylarda geçen zaman ögesi, öyküde kullanılan teknikler, klasik roman formundan farkı belirtilmiştir. Öykünün teknik özelliklerinin vurgulanması sebebiyle verilen sözler A, B, C ve E seçeneklerinden herhangi birine değil, D seçeneğindeki soruya karşılık olarak söylenmiş olabilir.

Cevap D

18. Parçada Türk sinemasının son yıllarda yurt dışında da ilgi görmesinin nedeni "Ancak artık bizi biz yapan değerleri filmelere yansıtabiliyoruz." ve "... toplumu oluşturan ortak değerlerimizi eritmeyi başarıyoruz filmin içinde" ifadelerinde verilmiştir. Buna göre kimliğimizi, kişiliğimizi kısacası kültürümüzü filmlere yansıtmak filmlerimizin yurt dışında ilgi görmesinin nedenidir. Bu düşüncüyü en iyi ifade eden yargı ise C seçeneğinde verilmiştir.

Cevap C

19. Parçada Hilmi Yavuz'un bir sözcük kuyumcusu olduğu, sözcüklerin benzeşim bağıntılarını hesapladığı ve eserlerini bu bağıntıları dikkat ederek oluşturduğu anlatılmıştır. Bu ifadelerden hareketle Hilmi Yavuz'un sözcüklerin anlamalarına ve çağırışım özelliklerine dikkat ederek, bu açıdan sözcükleri itina ile değerlendirerek eser oluşturduğuna ulaşabiliriz.

Cevap E

20. Parçada Hilmi Yavuz'un şiirlerinin değişik yorumlara ve alımlamalara açık olduğu ifade edildiği için B seçeneğine ulaşmak mümkün değildir. Parçada Hilmi Yavuz'un sözcüklere değer verdiği anlaşılmakta ancak yazarken kendisini duygu ve düşüncelerden kopardığına dair ifade bulunmamaktadır, bu nedenle C seçeneğine de ulaşamayız. Hilmi Yavuz'un seçtiği konularla ilgili herhangi bir bilgi verilmediği için D seçeneğinde yer alan toplum tarafından değer görececek konuları seçer, ifadesine de ulaşamayız. E seçeneğinde verilen ve Hilmi Yavuz'un her şiirinin bir öncekinden daha kapalı olduğu söylenen yargı ise parçada karışıklık bulunmamaktadır. Ancak parçanın son kısmına doğru, okurun sözcükler arasındaki bağlantıları anlayabilmesi ile şiirin hak ettiği değeri yakalayacağı değerlendirildiği bizi A seçeneğine götürecektir.

Cevap A

21. Parçanın anlatımında yazar, kendi duygu ve düşüncelerini ifade eden cümleler kullandığı için A, "sakın bir koy gibi, yalancı cennetimizden" gibi ifadelerde benzetme yapıldığından B, "tabiatın bütün sırlarını ifşa eden o derin seslerine, büyüleyici nefesinde" ifadelerinde kişileştirme yapıldığı için C, "sessizliğin seli" ifadesinde doğadan doğaya aktarma yapıldığı için D seçenekleri doğrudur. Ancak parçada, açıklayıcısı ile birlikte verilen bir kavram yoktur.

Cevap E

23. Parçada geçen "doyumsuz bir manzara karşısında... ne kadar huzur verir insana" ifadesine göre B, "resmî sistemden 'kayıt dışı' olmak isteriz tatillerde" ifadesine göre C, "Bunaldığımızda, ... kızdığımızda sığınacak sakın bir koy gibi gelir bize tatil." cümlesine göre D, "Yenilenmek ... için kendimizi tatildeki sessizliğin seline bırakırız" ifadesine göre E seçenekleri doğrudur. Ancak parçada tatilde, bütün sorunları çözebilecek enerjiyi toplamaktan söz edilmemiştir.

Cevap A

Kpss Kaynak Arşivi - Kpss Doküman Arşivi
<https://www.facebook.com/KpssKaynakArsivi>

YEDİKLİM

22. Amaç-sonuç ilişkisi taşıyan cümlelerde bu anlam "-mek/-mak için, -mek/-mak üzere, amacıyla, hedeflemek, istemek" gibi anahtar ifadeler ile sağlanır. Buna göre parçadaki I, II, IV ve V numaralı cümlelerde amaç anlamı yoktur. Ancak III numaralı cümlede geçen "...bazı şeyleri hiç yaşamamış gibi olmak için (amaçıyla)..." ifadesinde bir amaç belirtilmiştir.

Cevap C

24. Her paragrafta tek bir konu ve ana düşünce olmalıdır. Konu ve ana düşünce değiştiğinde ise ikinci paragrafa geçilmelidir. Buna göre parçanın I, II ve III numaralı cümlelerinde "seri üretim ve standart çalışma prosedürleri" ile ilgili bilgi ve sonuçlar, paragraf bütünlüğü içerisinde işlenmiştir. Ancak IV numaralı cümleden itibaren "küreselleşme ile birlikte enformasyon ve iletişim teknolojilerinin yayılması" konusu işlendiği için ikinci paragraf bu cümleyle başlamalıdır.

Cevap C

GENEL YETENEK

25. Parçadaki I numaralı cümlede gerekçe belirtildiğinden A, II numaralı cümlede "görüldü" ifadesiyle bir gözlemin sonucu ifade edildiğinden B, III numaralı cümlede "karar almak" deyimini kullanıldığından C, V numaralı cümlede söz konusu şirketlere örnek verildiğinden E seçenekleri doğrudur. Ancak IV numaralı cümlede herhangi bir kanıksama anlamı yoktur.

Cevap D

26. Parçada geçen "21. yüzyılda küreselleşmeyle birlikte enformasyon ve iletişim teknolojilerinin (EİT) yayılması... son derece eğitilmiş ve uzman insanlardan oluşan kuruluşları ortaya çıkarıyor." cümlesinde A ve D, "seri üretim ve standart çalışma prosedürleri... katı hiyerarşik yapılara yol açtı." ifadesinde C, "Birçok modern şirket, ... yansıtan işletme yapılarını ve tarzlarının bir karmasını yaratmış bulunuyor." cümlesinde E seçeneklerine değinilmiştir. Ancak parçada B seçeneğine dair bir ifade yoktur.

Cevap B

DENEME SINAVI ÇÖZÜMLERİ - 10**27-30. soruların çözümü için;**

Koltuk Numaraları	I. Olasılık	II. Olasılık
1	Beyza/Eren	Beyza/Eren
2	Gamze	Gamze
3	Beyza/Eren	Beyza/Eren
4	Ali	Ali
5	x	x
6	Cemile	Deniz
7	Fatma	x
8	x	Fatma
9	Deniz	Cemile

27. Tabloya göre üç numaralı koltukta verilen öncüllerden sadece Beyza oturuyor olabilir.

Cevap A

28. Tabloda her iki olasılığa göre de Ali'nin koltuk numarası Gamze'nin koltuk numarasından büyüktür.

Cevap B

29. Tabloya göre dokuz numaralı koltukta, verilen öncüllerden Cemile ve Deniz oturuyor olabilir.

Cevap D

30. Beyza ve Derya'nın arasında iki koltuk olduğu biliniyorsa 2. olasılığa göre soruyu cevaplandırmalıyız. Bu olasılığa göre yedi numaralı koltukta kimsenin oturmadığı doğrudur.

Cevap D

YEDİKLİM

$$\begin{array}{r}
 31. \quad zy \\
 \quad yy \\
 + \quad yxx \\
 \hline
 1179
 \end{array}$$

$$3x = 9$$

$$x = 3$$

$$2y + x = 7 \quad \text{veya}$$

$$\downarrow$$

$$3$$

$$2y = 4$$

$$y = 2$$

$$\begin{array}{r}
 2y + x = 17 \\
 \quad \quad 3 \\
 \hline
 2y = 14 \\
 y = 7
 \end{array}$$

$$z + 2y = 11$$

$$\downarrow$$

$$2$$

$$z = 7$$

$$\begin{array}{r}
 z + 2y = 11 \\
 z + 2y = 10 \\
 \hline
 z < 0
 \end{array}$$

$$x + y + z = 3 + 2 + 7 = 12$$

Cevap B

$$33. \quad a + b + c < 50$$

$$a + b = 3c$$

$$4c < 50$$

$$\downarrow$$

$$12$$

c en çok 12 olur.

Cevap D

$$34. \quad a > b > c \text{ ise } c = 1, b = 2, a = 3 \text{ alalım.}$$

$$(a - c - 2)(c - b - 1)(a - b)$$

$$\underbrace{(3 - 1 - 2)}_0 \underbrace{(1 - 2 - 1)}_{-2} \underbrace{(3 - 2)}_1 = 0$$

Cevap A

$$\begin{aligned}
 32. \quad \frac{55}{77} \cdot \left(\frac{1-8}{4} \right) &= \frac{55}{102} \cdot \frac{1}{11} \cdot \left(\frac{-7^1}{4} \right) = \\
 \frac{1}{2} \cdot \left(\frac{-1}{4} \right) &= -\frac{1}{8}
 \end{aligned}$$

Cevap B

$$\begin{aligned}
 35. \quad (125 \cdot 10^{-4} \cdot 10^{-5})^{\frac{2}{3}} \cdot 10^6 &= (5^3 \cdot 10^{-9})^{\frac{2}{3}} \cdot 10^6 \\
 &= 5^2 \cdot 10^{-6} \cdot 10^6 \\
 &= 5^2 \cdot 10^0 = 25
 \end{aligned}$$

Cevap E

$$\begin{aligned}
 36. \quad x &= 5\sqrt{3} \Rightarrow x = \sqrt{75} \\
 y &= 7\sqrt{2} \Rightarrow y = \sqrt{98} \\
 z &= 3\sqrt{11} \Rightarrow z = \sqrt{99} \\
 z &> y > x
 \end{aligned}$$

Cevap C

$$\begin{aligned}
 39. \quad \sqrt[6]{3^3} (2\sqrt{3} - 5\sqrt{3}) \\
 \sqrt{3} (-3\sqrt{3}) = -3 \cdot 3 = -9
 \end{aligned}$$

Cevap E

Kpss Kaynak Arşivi - Kpss Doküman Arşivi
<https://www.facebook.com/KpssKaynakArsivi>

$$\begin{aligned}
 37. \quad 9 \cdot 8 \cdot 7! - 8 \cdot 7! + 7! \\
 7!(72 - 8 + 1) \\
 7! \cdot 65 = \underbrace{7! \cdot 5 \cdot 13}_{a} = 13a
 \end{aligned}$$

Cevap A

YEDİKLİM

38. 1'den 9'a kadar olan 9 sayı için her bir plakada 2 kare, 10'dan 99'a kadar olan 90 sayı için her bir plakada 1 kare boş kalır. Üç basamaklı sayıları yazdığımızda plakalarda boş kare kalmaz.

O hâlde toplam boş kare sayısı,

$$2 \cdot 9 + 1 \cdot 90 = 18 + 90 = 108$$

Cevap E

40. x ve y tam sayılar olduğundan x - y'nin en büyük değeri için;

$$x = 6, \quad y = -2 \text{ alınır.}$$

$$x - y = 6 - (-2) = 8 \text{ olur.}$$

Cevap C

$$\begin{aligned}
 41. \frac{x|y-x| + y|x-y|}{y-x} &\Rightarrow \frac{x(y-x) - y(x-y)}{y-x} \\
 &\Rightarrow \frac{(y-x)(x+y)}{(y-x)} \\
 &= x+y
 \end{aligned}$$

Cevap E

$$\begin{aligned}
 43. \frac{x+2y}{2} = 4 &\Rightarrow x+2y=8 \\
 \frac{2x+z}{2} = 5 &\Rightarrow 2x+z=10 \\
 \sqrt{(3x+6y) \cdot (6x+3z)} \\
 &= \sqrt{3(x+2y) \cdot 3(2x+z)} \\
 &= \sqrt{3 \cdot 8 \cdot 3 \cdot 10} = \sqrt{720} \\
 &= 12\sqrt{5} \text{ bulunur.}
 \end{aligned}$$

Cevap D

YEDİKLİM

$$\begin{array}{cccccc}
 42. \text{ 1. yıl} & \text{2. yıl} & \text{3. yıl} & \text{4. yıl} & \text{5. yıl} & \text{6. yıl sonu} \\
 2 & 6 & 14 & 30 & 62 & 126 \\
 \underbrace{\quad} & \underbrace{\quad} & \underbrace{\quad} & \underbrace{\quad} & \underbrace{\quad} & \\
 +2^2 & +2^3 & +2^4 & +2^5 & +2^6 &
 \end{array}$$

Cevap C

$$\begin{aligned}
 44. x^2 - 2x - 7 = 0 &\Rightarrow x^2 - 2x = 7 \\
 \underbrace{x^4 - 2x^3}_{x^2(x^2 - 2x)} - 14x + 5 & \\
 x^2(x^2 - 2x) - 14x + 5 &= \underbrace{7x^2 - 14x + 5} \\
 &= 7(x^2 - 2x) + 5 \\
 &= 49 + 5 = 54
 \end{aligned}$$

Cevap A

45. $x^2 - y^2 - y^2 + z^2$

$$x^2 - y^2 + z^2 - y^2$$

$$\frac{(x-y)(x+y)}{3} + \frac{(z-y)(z+y)}{-3}$$

$$3(x+y) - 3(z+y)$$

$$3x + 3y - 3z - 3y \Rightarrow 3 \frac{(x-z)}{6} = 18$$

$$x - y = 3$$

$$+ \quad y - z = 3$$

$$x - z = 6$$

Cevap E

47.

Roman

Dergi

$$4x$$

$$12x$$

$$\text{Aslı: } 12x \cdot \frac{1}{4} = 3x \quad (\text{Kalan dergi} = 12x - 3x = 9x)$$

$$\text{Leyla: } 9x \cdot \frac{1}{3} = 3x \quad (\text{Kalan dergi} = 9x - 3x = 6x)$$

$$6x = 18 \text{ ise}$$

$$x = 3$$

$$\text{Roman} = 4x = 12$$

$$\downarrow \\ 3$$

Aslı ile Leyla 4 + 2 = 6 roman almıştı.

6 romanı Cihan almıştır.

Cevap C

46. Batu'nun x tane arkadaşı olsun.

$$10 \cdot (x + 1) = 11 \cdot x + 4$$

$x + 1$ kişiye kişi başına 10 bilye x kişiye kişi başı 11 bilye
Batu'ya 4 bilye

$$10x + 10 = 11x + 4$$

$$x = 6$$

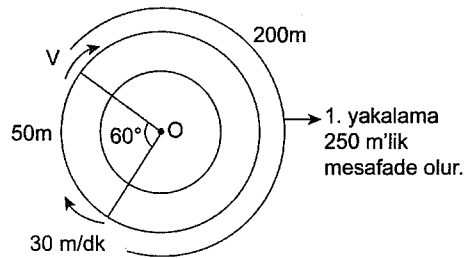
$$\text{Misket sayısı} = 10 \cdot (x + 1)$$

$$= 10 \cdot 7 = 70$$

Cevap B

48. 60° pistin çevresinin $\frac{1}{6}$ 'sidir.

$$\frac{300}{6} = 50 \text{ m'dir.}$$



$$t_1 = \frac{250}{V - 30}$$

$$t_2 = \frac{300}{V - 30}$$

$$t_3 = \frac{300}{V - 30}$$

$$t_1 + t_2 + t_3 = \frac{850}{V - 30} = 25$$

$$850 = 25(V - 30)$$

$$850 = 25V - 750$$

$$1600 = 25V$$

$$V = 64 \text{ m/dk}$$

Cevap E

49. $\begin{array}{c} \%40 \\ \boxed{} \\ 100x \end{array} - \begin{array}{c} \%40 \\ \boxed{} \\ 60x \\ \text{(Dökülen)} \end{array} + \begin{array}{c} \%100 \\ \boxed{} \\ 30x \end{array} + \begin{array}{c} \%0 \\ \boxed{} \\ 30x \end{array} = \begin{array}{c} \%t \\ \boxed{} \\ 100x \end{array}$

$$10\cancel{0} \cdot x \cdot 4\cancel{0} - 4\cancel{0} \cdot 6\cancel{0}x + 10\cancel{0} \cdot 3\cancel{0}x + 3\cancel{0}x \cdot 0 = 1\cancel{0}\cancel{0}x \cdot t$$

$$40\cancel{x} - 24\cancel{x} + 30\cancel{x} = \cancel{x} \cdot t$$

$$46 = t \text{ (tuz yüzdesi)}$$

$$100 - 46 = 54 \text{ (su yüzdesi)}$$

Cevap E

51. Toplam dörtgen sayısı (5 yataydan 2'si, 5 dikeyden 2'si)

$$\begin{pmatrix} 5 \\ 2 \end{pmatrix} \cdot \begin{pmatrix} 5 \\ 2 \end{pmatrix} = 10 \cdot 10 = 100$$

Toplam kare sayısı

$$1^2 + 2^2 + 3^2 + 4^2 = 1 + 4 + 9 + 16 = 30$$

$$\text{Olasılık} = \frac{\text{Toplam kare sayısı}}{\text{Toplam dörtgen sayısı}} = \frac{30}{100} = \frac{3}{10}$$

Cevap A

YEDİKLİM

50. Yaş sabunu 10 kg alalım. Kilosu 8 lira ise

$$10 \cdot 8 = 80 \text{ lira maliyeti olur.}$$

Bu sabunlar %40 kârla satılacak ise

$$8\cancel{0} \cdot \frac{4\cancel{0}}{100} = 32 \text{ lira kâr edilecektir.}$$

Yani $80 + 32 = 112$ lira kazanılacak.

Sabun kurutulduğunda %30 hafiflediğine göre

$$1\cancel{0} \cdot \frac{3\cancel{0}}{100} = 3 \text{ kg hafifler ve geriye 7 kg alır.}$$

Bu durumda 1 kg kuru sabun $112 : 7 = 16$ lira olur.

Cevap C

52.

	A	B	C
10	$\frac{3x}{2}$	x	
20	x	x	x
30	$(3x)$	x	

$$10 \cdot \frac{3x}{2} + 20 \cdot x + 30 \cdot 3x = 125x$$

$$10x + 20x + 30x = 60x$$

$$\frac{60x}{125x} = \frac{12}{25} = 0,48$$

Cevap C

53.

	A	B	C
10	(K)	x	(L)
20	x	x	x
30		x	

$$10K + 10x + 10L = 60x$$

$$10(K + L) = 50x$$

$$K + L = 5x$$

C kutusundaki üç türden aynı değerde soru olduğundan 20 puanlık soruların değeri $20x$ ise $L = 2x$ olur.

$$\frac{3x}{x} = 3$$

Cevap D

55. Araç 6 saatte $150 - 132 = 18$ lt yakıt tüketmiştir.

1 saatte 3 lt yakıt tüketilir.

$$150 - 3x = 3x$$

$$150 = 6x \Rightarrow x = 25$$

Cevap E

Kpss Kaynak Arşivi - Kpss Doküman Arşivi
<https://www.facebook.com/KpssKaynakArsivi>

YEDİKLİM

54.

	A	B	C
10		x	2x → 20x
20	x	x	x
30		x	$\left(\frac{2x}{2}\right) \rightarrow 20x$

$$20x + 20x + 20x = 300$$

$$60x = 300$$

$$x = 5$$

B kutusunda $3x$ soru vardır.

$$3x = 15 \text{ soru vardır.}$$

↓
5

Cevap A

56. Öncelikle $(5 \triangle 3)$ değerini arayalım.

$$\left. \begin{array}{l} a + b = 5 \\ a - b = 3 \end{array} \right\} \begin{array}{l} 2a = 8 \Rightarrow a = 4 \\ b = 1 \end{array}$$

$$5 \triangle 3 = 4 \cdot 1 - 1 = 3$$

$$\underbrace{(5 \triangle 3)}_3 \triangle 13 = 3 \triangle 13$$

$$a + b = 3$$

$$+ \quad a - b = 13$$

$$\hline 2a = 16$$

$$a = 8$$

$$b = -5$$

$$3 \triangle 13 = 8 \cdot (-5) - 1 = -41 \text{ elde edilir.}$$

Cevap E

1. Göktürkler ve Uygurların kendilerine ait alfabeleri bulunmaktadır. Matbaa ve kâğıt ise Uygurlar tarafından kullanılmıştır.

Cevap C

2. Nizamiye Medresesi, Büyük Selçuklular Dönemi'nde açılmıştır.

Cevap C

3. Yusuf Has Hacı, Kaşgarlı Mahmut Karahanlılar Dönemi, Fuzuli ise Osmanlı Devleti Dönemi'nde yaşamıştır.

Cevap D

4. Karesioğulları Beyliği, Orhan Gazi Dönemi'nde alınmıştır. Karesioğulları Beyliği'nin alınması Türk siyasi birliğini sağlamaya yönelik ilk adımdır.

Cevap B

5. Sahn-ı Seman Medresesini İstanbul'da kurduran padişah, Fatih Sultan Mehmet'tir.

Cevap A

6. Osmanlı Devleti'nde dirlik üçe ayrılır: Has toprak sultan toprağı olarak bilinir. Divan üyelerine de verilmektedir. Zeamet, orta dereceli memurlara verilir. Tımar, kıraç topraklardır. Dirlik sistemi içinde en yaygın toprak tımar topraktır.

Cevap E

7. Osmanlı ordusunda silah bakım ve onarımını yapan sınıf cebeci sınıfıdır.

Humbaracılar: El bombası ve havan yapan sınıftır.

Silahtar: Kapıkulu süvari birlikleri içinde yer alır.

Turnacılar: Habercilerdir.

Sakalar: Ordunun su ihtiyacını karşılar.

Cevap A

8. Hazineden para çıkmadan asker beslemek, devlet otoritesini sağlamak tımar sisteminin faydaları arasında yer alır. Yargı işleri ile kadılar uğraşmaktadır.

Cevap D

9. Mohaç - 1526

Palekanon - 1329

Çaldıran - 1514

Osmanlı Devleti'nin Kuruluş Devri'nde Palekanon Savaşı olmuştur. Diğer savaşlar Yükselme Dönemi'ndedir.

Cevap B

10. Borç alınan bir paranın belirli zamanda ödeneceğini gösteren senetler esham senetleridir.

Kaime: Osmanlı Devleti'nde ilk kâğıt paranın ismidir.

Mürur: İstanbul'a giriş belgesidir. Geçiş belgesidir.

Adaletname: Adalet hükmüdür.

Kanunname: Fermanların bir araya gelmesi ile oluşan kanun kitabıdır.

Cevap A

11. Navarin Baskını (1827), Çeşme Baskını (1770), Sinop Baskını (1853) ile Osmanlı donanması yıkılmıştır.

Cevap E

12. Mehteran yerine Mızıkay-ı Hümayun, II. Mahmut Dönemi'nde kurulmuştur.

Cevap B

13. Trablusgarp Savaşı, Uşi Antlaşması ile sona ermiştir. Uşi Antlaşması'na göre Osmanlı Devleti Trablus ile kültürel bağını, "Trablus halkı dinî olarak Osmanlı halifesine bağlı olacaktır." maddesi ile devam ettirmek istemiştir.

Cevap A

14. I. Dünya Savaşı'nda Tehcir Kanunu'nu uygulayan devlet Ermenilerin zararlı faaliyetlerinden dolayı Osmanlı Devleti olmuştur. Ermeniler Suriye ve Lübnan topraklarına yerleştirilmiştir.

Cevap C

15. Vilayet-i Sitte illeri Mondros Ateşkes Antlaşması'na göre Ermeni Devleti'nin kurulmak istendiği Osmanlı topraklarıdır. Bunlar; Elâzığ, Van, Diyarbakır, Erzurum, Sivas, Bitlis'tir.

Cevap E

16. I. TBMM 1920 – 1923 yılları arasında çalışmıştır. I. TBMM'nin özellikleri arasında kurucu meclis özelliği vardır, meclis hükûmeti sistemi uygulanmaktadır, İcra Vekilleri Heyeti, Mecliste tek tek oylama ile seçilmiştir.

Cevap E

17. San Remo Konferansı kararları Sevr'in taslağıdır. Bu taslağa göre Irak'ın İngiltere'ye bırakılması, Suriye'nin Fransız mandası olması, Doğu Anadolu'da bir Ermeni Devleti'nin kurulması kararları alınmıştır.

Cevap E

18. Mustafa Kemal'in isteği doğrultusunda Lozan'a giden heyet; ekonomik bağımsızlığımızın göstergesi olan kapitülasyonların tamamen kaldırılması ve siyasi bağımsızlığımızın göstergesi olan Ermeni Devleti'nin Anadolu topraklarında kurulmasının engellenmesi doğrultusunda karar aldirmaya çalışmıştır.

Cevap D

19. Türk İnkılabı ile ilgili olarak; hazırlayan ve uygulayanlar aynı kişilerdir, tutsak uluslara örnek olmuştur, laik yönetim benimsenmiştir, öncüllerine ulaşılabilir.

Cevap E

20. Mustafa Kemal Atatürk 1905-1907 yılları arasında Suriye-Şam'da bulunan 5. Orduda görev almıştır.

Cevap B

21. 3 Mart 1925'te başbakan olan İsmet İnönü, Şeyh Sait Ayaklanması'nın bastırılması için hükûmete geniş yetkiler veren Takrir-i Sükûn Kanunu'nu çıkartmıştır.

Cevap A

22. Medreselerin kapatılması; eğitimin ulusallaşması ve karışıklıkların engellenmesini sağlamıştır.

Cevap D

23. Mustafa Kemal'in bu sözü ile vatan için her türlü zorluğa katlanılması ve Millî Mücadele'de birliğin sağlanması öncüllerine ulaşılabilir.

Cevap D

24. Atatürk Dönemi'nde; Tarım Kredi Kooperatifleri, Yüksek Ziraat Enstitüsü, Maden Tetkik ve Arama Enstitüsü açılmıştır.

Cevap E

25. Sovyet lideri Gorbaçov'un izlediği politikalar; Glasnost (açıklık) ve Perestroyka'dır (yeniden yapılanma). NEP politikasını Lenin izlemiştir.

Cevap D

26. Birleşmiş Milletler Teşkilatının merkezi New York'tur (ABD).

Cevap E

27. ASALA, Hınçak, Taşnak Ermeni terör örgütü ve zararlı cemiyetleridir.

Cevap E

28. Mersin'den Rize'ye gidildikçe enlem etkisi ile gece-gündüz süresi değişir, yer çekimi artar, sıcaklık azalır, orman yetiştirme üst sınırı alçalır, Rize daha doğudaki boylam üzerinde olduğu için güneş daha önce doğar ve yerel saati daha ileridir. Enlem ve boylam etkisi ile değişen durumlar mutlak konum ile ilişkilidir.

Cevap A

29. Türkiye yer şekilleri bakımından dağlık, engebeli ve yüksek yapıda olma özelliğindedir. Yükseltinin kısa mesafede değişmesi sıcaklık ve yağış koşullarının değişmesine neden olduğu için tarım, bitki çeşitliliği fazladır.

Ancak Karadeniz kıyı sıcaklığının Akdeniz kıyılarına göre daha düşük olması Ekvator'a uzaklık ile ilgilidir (enlem).

Cevap C

30. Peneplen (yontukdüz), akarsu aşındırması sonucunda deniz seviyesine yaklaşmış az eğimli dalgalı düzlüktür. Bu tür arazi yapısı üzerinden geçen akarsu yatak eğimi az, akış hızı düşük, enerji potansiyeli az, yana aşındırma fazladır. Akarsuyun taraça (seki) oluşturması epirojenez sonucunda oluşabilecek bir durumdur.

Cevap D

31. Akarsu alüvyonlarını bir çanağın veya vadinin önünde uzun zaman içinde biriktirmesi sonucu oluşan göllere alüvyal set gölleri denir. Bu tür özellikteki önemli göller şunlardır:

Bafa (Çamiçi), Köyceğiz, Marmara, Eymir ve Mogan gölleridir.

Cevap D

32. Gür otlaklar altında oluşan humus bakımından zengin verimli tarım toprağı çernoyomdur. Bu tür topraklar ülkemizde yazı yağışlı olan Erzurum-Kars yöresinde yaygın olarak görülür.

Cevap E

33. Seçeneklerde belirtilen yer şekillerinden,

- Falezler → Dalga
 - Nemrut Krater Gölü → Volkanizma
 - Mantar kaya → Rüzgâr
 - Peribacaları → Akarsu etkisi ile oluşmuşlardır.
- Damlataş Mağarası'ndaki sarkıt, dikit ve sütunlar karstik biriktirme şekilleri arasında yer alırlar.

Cevap C

34. Erzurum'da kışların Ankara'ya göre daha soğuk, yazların ise daha serin geçmesinin temel nedeni yükseltisinin daha fazla olmasıdır.

Cevap E

35. Türkiye'de doğum oranlarının fazla olması, 0-14 yaş arasındaki nüfus oranının yüksek olması ortanca yaşının daha düşük olmasında etkilidir. Bu da ülke nüfusunun daha genç olduğunu gösterir.

Cevap C

36. Mevsimlik göç, çeşitli nedenlerden dolayı bir süre için yapılan yer değişikliğidir. B seçeneğinde belirtildiği gibi yaz tatilini geçirmek için yapılan yer değişikliği mevsimlik göçe girer. Diğer seçeneklerde yerleşmek için yer değişikliği yapılmıştır. Bu tür göç kalıcı göçtür.

Cevap B

37. Ekonomik faaliyet türlerinden tarım, hayvancılık, madencilik, balıkçılık, ormancılık gibi faaliyetler birincil faaliyetlerdir.

Cevap C

38. Haritada belirtilen I numaralı alan pirinç üretiminde ilk sıradadır. Pirinç tarımında, tarlanın özelliği ve ürünün toplanma şekline göre makine kullanımı çok zordur.

Cevap A

39. Buğday, üzüm, şeker pancarı, pamuk ülkemizde kıyı ve iç kesimlerde yetiştirme alanına sahip oldukları için ekim alanları hem geniş hem de ülke iklim koşullarına uyum sağlayan ürünler arasında yer alırlar.

Fındık sadece Karadeniz iklim özellikleri altında üretilen ürün olduğu için ekim alanı sınırlıdır.

Cevap B

40. Mera hayvancılığı doğal koşullara bağlı olduğu için et ve süt üretimi düşüktür ve verim iklime bağlı olarak yıllar arasında farklılık gösterir.

Cevap A

41. Zonguldak → Kâğıt

Tokat → Şeker

Batman → Petrokimya

Aydın → Yağ

sanayi tesislerinin kuruluş yerinin belirlenmesinde ham madde etkilidir.

Bursa otomotiv sanayisinin gelişmesinde ulaşım ve pazar faktörü etkili olmuştur.

Cevap B

42. Türkiye'de rüzgâr enerji üretim santralleri daha çok Marmara ve Ege Bölgesi'nde (İstanbul, Tekirdağ, Balıkesir, Çanakkale, İzmir, Manisa, Aydın vb.) kurulmuştur.

Cevap C

43. Trabzon ve Malatya kentlerinin iklim özellikleri farklı olduğu için yetiştirilen tarım ürünleri farklıdır. Bu iki kent arasındaki ticarete tarım ürünlerinin payı fazladır. Seçeneklerdeki diğer kentlerin iklim özellikleri benzerdir, tarım ürünleri benzerlik oluşturur.

Cevap C

44. Deniz, kış, yayla turizm etkinlikleri mevsimlidir. Bu nedenle bu turizm yörelerinde yıl içinde ziyaretçi sayısı belli bir dönemde artış gösterir.

Cevap D

YEDİKLİM

45. Komşu ülkelerimizden Gürcistan, Bulgaristan, Yunanistan ve Suriye ile kara sınırı yanında deniz sınırımız olduğu için bu ülke limanlarına giden gemilerimiz başka ülke kara sularından geçmez. Irak ile sadece kara sınırımız olduğu için bu ülke limanına giden bir gemi başka ülke kara sularından geçmek zorundadır.

Cevap E

46. Ceza, kanunun suç saydığı eylem ve davranışlarda bulunanlara uygulanan yaptırımdır. Cezanın çeşitli türleri vardır. Örneğin; adli para cezaları, hapis (hafif hapis, ağır hapis, süreli hapis, müebbet hapis) ve belli bir meslek veya sanatın icrasının geçici olarak tatil edilmesi gibi. Ancak B seçeneğinde yer alan cibrî icra bir ceza türü değil bir yaptırım türüdür.

Cevap B

47. Hukuk düzeninin kişilere tanıdığı yetkiye, korunması istenebilen menfaate hak denir.

Cevap D

48. Davaya bakan hâkimin kanunu uygularken yaptığı yoruma yargısal yorum denir.

Cevap C

49. TBMM'ce kabul edilen kanunları yayımlama görevi cumhurbaşkanına aittir. Cumhurbaşkanı kendisine sunulan kanunları 15 gün içinde Resmî Gazete'de yayımlar. Yayımlanmasını kısmen veya tamamen uygun görmediği kanunları gerekçeleri ile aynı süre içinde TBMM'ye geri iade eder.

Cevap C

50. Olağanüstü hâl en fazla 6 aylığına ilan edilir. Sebeplerin devam etmesi hâlinde cumhurbaşkanının talebi üzerine her defasında 4 ayı geçmemek üzere bu süreyi uzatmaya TBMM yetkilidir.

Cevap C

51. 1982 Anayasası'nda yapılan ve 16 Nisan 2017 tarihinde kabul edilen değişiklik ile Anayasa Mahkemesinin üye sayısı on yediden on beşe düşürülmüştür. İki üye eksilmesinin nedeni, yüksek mahkemeleri kaldırıldığı için Askerî Yargıtay ile Askerî Yüksek İdare Mahkemesinden seçilen birer üyenin kontenjanının boşalmış olmasıdır.

Cevap D

52. 657 sayılı Devlet Memurları Kanunu'na göre başka yere atanan memur on beş gün sonra ve on günlük de ek süreden sonra göreve başlamazsa, aynı yere atanan memur bir sonraki gün göreve başlamazsa çekilmiş sayılır ve bu durumda olanlar çekilmiş sayılma tarihinden itibaren bir yıl devlet memuru olamazlar.

Cevap C

53. Mahallî İdareler (yerel yönetimler): İl, belediye veya köy halkının mahallî müşterek (ortak) ihtiyaçlarını karşılamak üzere, kuruluş esasları kanunla belirtilen ve karar organları, gene kanunda gösterilen, seçmenler tarafından seçilerek oluşturulan kamu tüzel kişileridir.

- İl özel idaresi
- Belediye
- Köy

Ancak il idaresi bir taşra teşkilatıdır.

Cevap D

54. Haklarında, 657 sayılı Devlet Memurları Kanunu'nun, atama, sınav, kademe ilerlemesi ve derece yükselmesi hükümleri uygulanamayan memurluklara istisnai memurluk denir. Ancak C seçeneğinde yer alan kaymakam ise atama, sınav, kademe ilerlemesi ve derece yükselmesi hükümlerine tabidir.

Cevap C

58. Çin ile ona sınırdış olan Rusya, Kazakistan, Kırgızistan, Tacikistan ve Özbekistan'ın oluşturduğu Avrupa Birliği'ne alternatif bir oluşum olarak adlandırılan birliğin adı Şanghay İş Birliği Örgütüdür. Ayrıca birlik tarafından Türkiye'ye "diyalog ortaklığı" statüsü verilmiştir. Merkezi Pekin'dir.

Cevap E

Kpss Kaynak Arşivi - Kpss Doküman Arşivi
<https://www.facebook.com/KpssKaynakArsivi>

55. Ahmet Necdet Sezer Genelkurmay Başkanlığı yapmamıştır.

Cevap E

56. Birleşmiş Milletler (BM), 24 Ekim 1945'te kurulmuştur. Birleşmiş Milletler kendini "adalet ve güvenliği, ekonomik kalkınma ve sosyal eşitliği uluslararası tüm ülkelere sağlamayı amaç edinmiş küresel bir kuruluş" olarak tanımlamaktadır. Türkiye Birleşmiş Milletlerin kurucu üyesidir.

Cevap A

57. Uzun süredir Parkinson hastalığı ile mücadele eden Muhammed Ali 3 Haziran 2016 tarihinde solunum yolu rahatsızlığı nedeniyle tedavi gördüğü hastanede yaşamını yitirmiştir.

Cevap E

59. 2016 yılında TBMM Genel Kurulunda yapılan seçimle kamu başdenetçiliğine Şeref Malkoç seçildi. Ancak Türkiye'nin ilk kamu başdenetçisi Mehmet Nihat Ömeroğlu'dur.

Cevap A

60. BBC'nin dünyadan 177 film eleştirmeni ile birlikte yaptığı, 21. yüzyılın En İyi 100 Filmi listesinde 36 ülkeden eleştirmenlerin katıldığı ankette Nuri Bilge Ceylan'ın çektiği "Bir Zamanlar Anadolu" listede 54 sırada yer aldı. Nuri Bilge Ceylan listeye giren tek Türk yönetmen oldu.

Cevap A

YEDİKLİM